

**الجزء الاول : (13 نقاط)**

**السؤال الاول : (2ن)**

اشرح مايلي : الاثار – علماء الاثار – المواقع الاثرية – قبل الميلاد

**السؤال الثاني : (4ن)**

اربط بسهم

الكربون المشع 14  
حلقات الاشجار  
العصر الحجري القديم  
العصر الحجري الاوسط

1- كشف الاثار المغمورة تحت البحر  
2- لكشف عمر العظام  
3- استأنس الانسان الحيوان  
4- مارس الانسان الزراعة

**السؤال الثالث : (3ن)**

" يهتم علماء الاثار بالبحث عن الاثار على سطح الكرة الارضية و تحت البحر اذ يعتمدون على خطوات "

- ماهي خطوات دراسة الاثار ؟

- حسب ماذا يقسم العلماء عصور ما قبل التاريخ ؟

**الوضعية الادماجية : (4ن)**

**السياق** " زرتم متحفا للآثار القديمة والحظتم وجود بقايا بشرية تعود لعصور بعيدة جدا. فطلب منكم دراسة وتصنيف هذه الاثار ، وربطها بأنماط معيشة الانسان خلال هذه الفترة

**السند 1:** تختلف دراسة الاثار حسب مواقع تواجدها

**السند 2:** يقوم علماء الآثار بدراسة الأدوات والظواهر وتحليلها بغية الحصول على

معلومات مثل: كيف صنعت الأدوات وأين استخدمت .

**التعليمة :** اعتمادا على السندات بين كيف يقوم علماء الاثار بدراسة وتصنيف الاثار ، وتحديد أنماط معيشة الإنسان في العصور القديمة.

**الجغرافيا : (7نقاط)**

**الجزء الاول :**

**السؤال الاول :**

اشرح مايلي : البحار الداخلية – التضاريس

**السؤال الثاني :**

رتب القارات حسب مساحتها

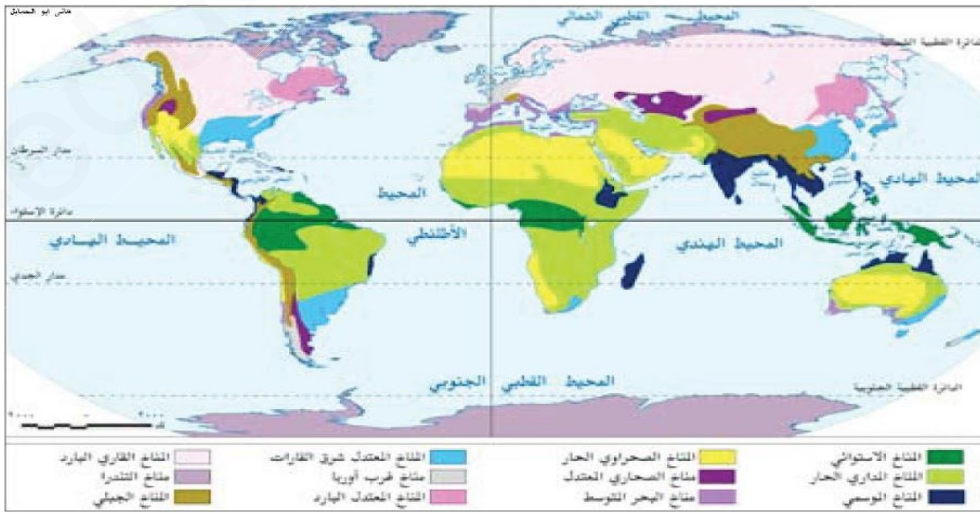
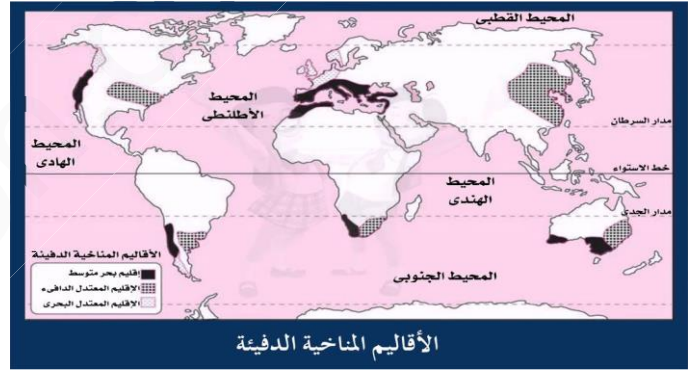
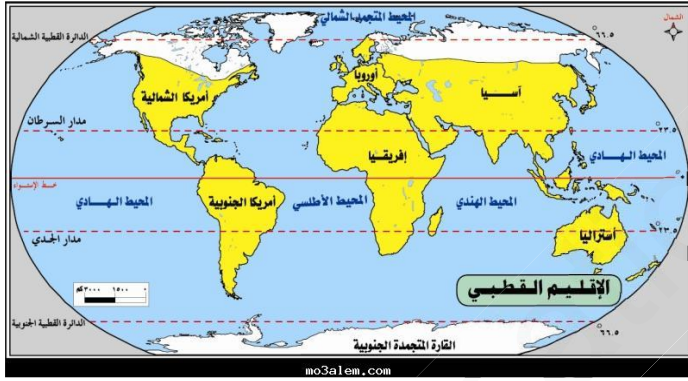
اسيا – اوربا- اوقيانوسيا – افريقيا- امريكا

**الوضعية الادماجية :**

**السياق:**

" لاحظت خلال تصفحك لموسوعة الاطلس ان مناطق من العالم يسودها فصل لايسود في الجزائر فقررت البحث عن ذلك "

**السند 1:**



**التعليمة:** من خلال السندات و مما درست قدم عرض تشرح فيه النطاقات المناخية في العالم و ماهي مميزات كل نطاق