

## الجمهورية الجزائرية الديمقراطية الشعبية

السنة الدراسية 2020/2019

متوسطة دحاوي يحيى - النعامة -

المدة: ساعة

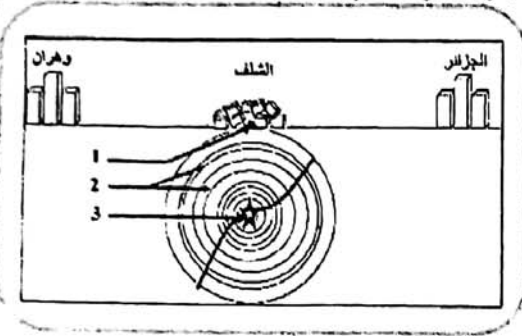
المستوى الثالثة متوسط

الفرض المحروس الأول في مادة علوم الطبيعة و الحياة

الوضعية الأولى ( 06 ن )

تعرضت ولاية شلف في 10 أكتوبر 1980 على الساعة 13سا و 25 د لهزة أرضية عنيفة، بلغ مقدارها 7,3 على سلم ريشر و على عمق 10 كم من باطن الأرض و قد أدى هذا الزلزال إلى تدمير المدينة بنسبة 80% و خسائر بشرية و تبعته عدة هزات ارتدادية بعد الهزة الأولى، و قد خلف هذا الزلزال صدع (شق) طوله 36 كم.

التعليمات :



1- ضع البيانات مكان الأرقام في الوثيقة-1-



2- حدد عواقب و خصائص الزلزال الذي حدث في شلف.

3- فسر سبب كثافة الخسائر في مدينة شلف مقارنة بمدينتي الجزائر و وهران.

4- فسر كون منطقة شمال إفريقيا ذات نشاط زلزالي.

الوضعية الثانية ( 06 ن )

في رحلة علمية نظمها إدارة المؤسسة إلى منطقة سياحية تتميز بوجود تشوهات جيولوجية، شاهدت عدة مناظر لطبقات صخرية، و في طريق عودتكم طرح عليك زميلك عدة أسئلة حول نوعية هذه التشوهات و سبب تشكلها.



السند-2-

السند-1-


التعليمات :

1- وضح لصديقك أشكال تشوهات الطبقات الصخرية الموضحة في السندات؟

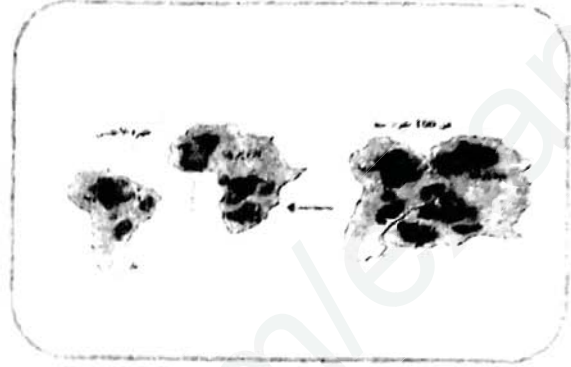
2- اشرح له سبب تشكل هذه التشوهات و علاقتها بحدوث الزلزال؟

## الوضعية الإدماجية (08)

كثيرة هي الظواهر الطبيعية المرتبطة بالديناميكية الداخلية للكرة الأرضية، و باعتبار الإنسان الموهل الوحيد على وجه الارض لتفسير هذه الظواهر بشكل علمي دقيق، فقد أصبح اليوم يتم أكثر بعلم الجيولوجيا و لغرض فهم إحدى الظواهر المرتبطة بالتكتونية العامة. إليك السندات التالية :



السند-2-



السند-1-

### التعليمات :

من خلال السياق والسندات و معلوماتك السابقة :

- 1- استنتج الظاهرة الجيولوجية المدروسة ؟ قدم تعليلا لإجابتك.
- 2- استند العالم الجيولوجي "ألفريد فيجنر" على مجموعة أدلة تثبت حدوث الظاهرة المدروسة عبر الزمن الجيولوجي. أذكر هذه الادلة؟
- 3- فسر السبب في حدوث الظاهرة المدروسة؟