

المستوى : السنة الأولى ابتدائي

الموسم الدراسي : 2016/2017م

10

اللقب :


الاسم :

إختبار الثلاثي الثاني في مادة الرياضيات

الوضعية الأولى: تَفْرِزُ حَدِيحَةً مَرَّةً لِلْخَلْفِ وَ مَرَّةً لِلْأَمَامِ ؛ أَكْمِلْ بِالْعَدَدِ الَّذِي يَسْبِقُ وَ الْعَدَدِ الَّذِي يَلِي :

..	65	55	45	35	..
----	----	----	----	----	----	----	----	----	----	----	----

الوضعية الثانية: هَذَا الرَّضِيعُ جَائِعٌ خُذْهُ إِلَى رَضَاعَتِهِ ؛ لَوْنُ الْمَسَلِّكَ الَّذِي سَتَسْأَلُكَ :



الوضعية الثالثة: أَرَادَ أَحْمَدُ أَنْجَازَ وَاجِبِهِ الْمَنْزِلِيِّ الْآتِي ؛ سَاعِدْهُ فِي ذَلِكَ :



$60 + 5 = ..$

$37 - 5 = ..$

$40 + 10 = ..$

$14 - 10 = ..$

الوضعية الرابعة: سَجِّلْ تَوْقِيَّتَ نَشَاطَاتِ بِلَالٍ خِلالَ الْيَوْمِ :



.....

.....

.....

.....

الوضعية الخامسة:

قَرَأَتْ لَيْلِيَا 27 صَفْحَةً مِنْ قِصَّةِ لَيْلَى وَ الذِّئْبِ ، وَبَقِيَتْ مِنْهَا 10 صَفْحَاتٍ .

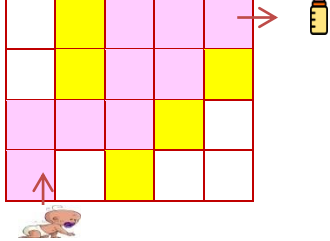


- ماهو عدد صفحات القصة ؟

عدد صفحات القصة هو.....صفحة .

..... =

شبكة تقويم إختبار الثلاثي الثاني في مادة الرياضيات

العلامة		المؤشرات			الوضعية									
كاملة	مجزأة	بكمل المتتالية :												
2ن	4x0.25	64	65	66	54	55	56	44	45	46	34	35	36	<u>الأولى</u>
2ن	8x0.25				يلون المسلك :						<u>الثانية</u>			
2ن	4x0.5	$60 + 5 = 65 .$ $14 - 10 = 4.$			$37 - 5 = 32.$ $40 + 10 = 50$			يحسب و يعد :			<u>الثالثة</u>			
2ن	4x0.5	21:00			13:00			08:00 07:00			يسجل الساعة :	<u>الرابعة</u>		
2ن	4x0.5										عدد صفحات القصة هو 37 صفحة	<u>الخامسة</u>		
											$27+10=37$			