


اختبار الفصل الثالث في مادة الرياضيات



النشاط الاول: 1.5 ن اكمل :

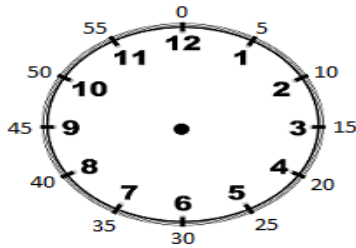
يُوجَدُ عشرات و.....وَوَحَدَاتُ

العدَدُ هُوَ.....

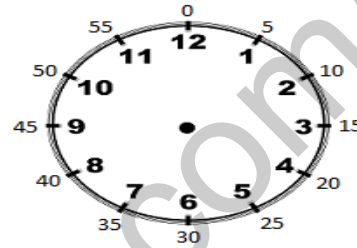
النشاط الثاني: 1.5 أضع أكبر من / أصغر من / =

$$\begin{array}{r} 62 \\ 99 \\ 10+5 \end{array} \quad . \quad \begin{array}{r} 98 \\ 80 \\ 5+10 \end{array}$$

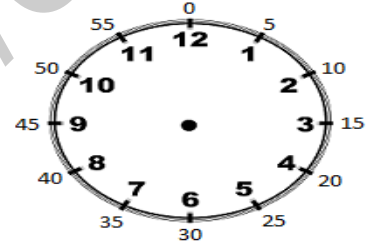
النشاط الثالث: 1.5 ن ارسم عقارب الساعة على حسب كل توقيت



5.30



8.00



1.15

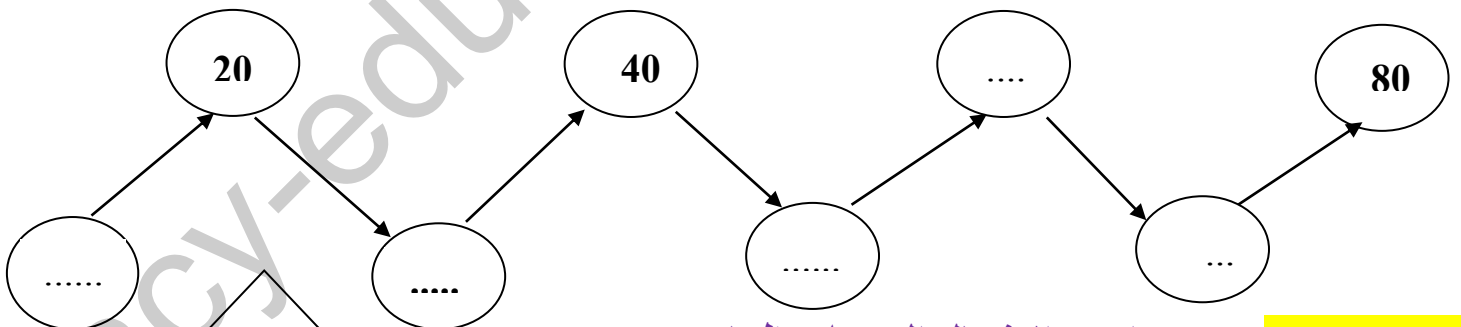
النشاط الرابع: 1.5 ن أنجز العمليات التالية

$$\begin{array}{r} 47 \\ +51 \\ \hline = \end{array}$$

$$\begin{array}{r} 32 \\ +31 \\ \hline = \end{array}$$

$$\begin{array}{r} 56 \\ +12 \\ \hline = \end{array}$$

النشاط الخامس: 1.5 ن اكمل بالأعداد المناسبة



النشاط الخامس: 1.5 ن اكتب الاشكال التي تلاحظها

.....-1

.....-2

.....-3

.....-4