





اختبار الفصل الثاني في الرياضيات

1 - اربط باستعمال المسطرة بين كل شئنين متشابهين: (1.5ن)



2 - لاحظ المجموعة ثم أكمل الجدول: (1.5ن)



الأشياء				
العدد	9

3 - احسب عمليات الجمع و الطرح: (2ن)

$$2 + 1 = \dots\dots\dots$$

$$5 + 3 = \dots\dots\dots$$

$$15 + 5 = \dots\dots\dots$$

$$25 + 5 = \dots\dots\dots$$


$3 - 2 = \dots\dots\dots$

$10 - 1 = \dots\dots\dots$

$20 - 5 = \dots\dots\dots$

$30 - 5 = \dots\dots\dots$

4 - رَتَّبِ الفيلةَ بالأرقام (1-2-3-4) مِنَ الأصغرِ إِلَى الأكبرِ: (ن1)



5 - اُكْتُبِ العَدَدَ السَّابِقَ وَ المُوَالِيَ : (ن2)

→		
9	10

→		
.....	25	26

→		
32	33

→		
38	40

6 - اُكْتُبِ رَقْمَ الوَحَدَاتِ وَ العَشْرَاتِ فِي الجَدْوَلِ : (ن2)

ع	و
.....

ع	و
.....

ع	و
.....

ع	و
.....

امضاء الولي