

المدة : ساعة

اختبار الفصل الثاني في مادة : الرياضيات

التمرين الأول: (2ن)

- أكمل كما في المثال :

| العدد الذي يليه | العدد | العدد الذي يسبقه |
|-----------------|-------|------------------|
| ... | 945 | ... |

| ضعفه | العدد | نصفه |
|------|-------|------|
| .. | 16 | . |

التمرين الثاني: (2 ن)

- رتب الأعداد التالية من الأصغر إلى الأكبر:


945 - 356 - 365 - 98



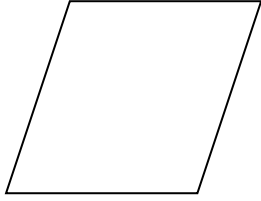
.....

التمرين الثالث: (2ن)

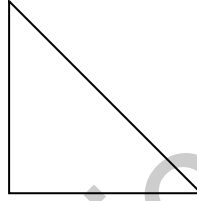
- أكتب عدد الزوايا القائمة في الأشكال التالية.



.....



.....



.....



.....

الوضعية الإدماجية: (4ن)

- جمع رائد في حصّالته 256 دينارًا، و زادَهُ والدُهُ بمُناسبة عيد ميلاده 525 دينارًا.

* كم دينارًا أصبح عند رائد؟

- اشترى أدواتٍ بِـ 300 دينارٍ.

* كم دينارًا بقي عنده؟

.....

.....

.....

.....

| |
|-------|
| |
| |
| |
| |

| |
|-------|
| |
| |
| |
| |

بالتـ _____ وفيـ _____ قـ