

1. التمرين الأول: (2.5ن) أكمل بالعدد المناسب أو بأحد الرموز < . = . > :

2سا = دقيقة
ساعة ونصف = دقيقة
يومان = ساعة
361 . 337 189 . 951

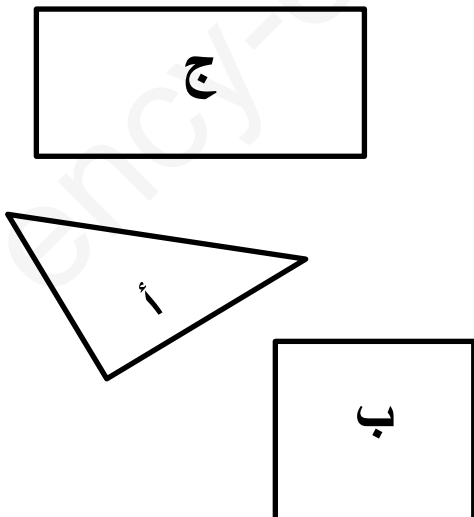
2. التمرين الثاني: (1.5ن) أكتب هذه العمليات عموديا ثم أنجزها:

$$136 + 277 =$$

$$849 - 416 =$$

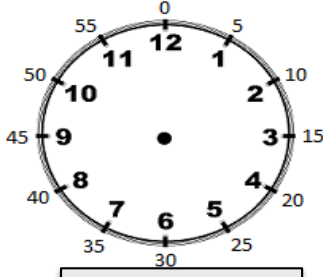
$$45 + 63 =$$

3. التمرين الثالث: (2ن) : شاهد هذه المضلعات واملأ الجدول أدناه:

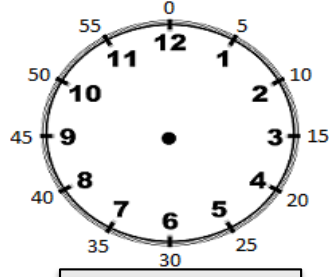


اسمه	عدد الزوايا القائمة	الشكل
		أ
		ب
		ج

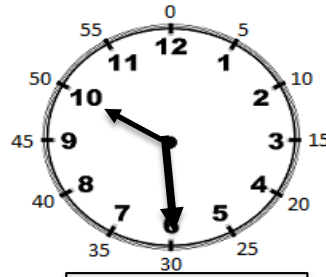
4. التمرين الرابع: أكتب الساعة بالأرقام ثم ارسم العقارب (1 ن)



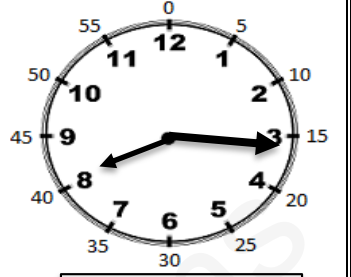
02 : 40



17 :30



:



:

صباحا

5. مسألة: (3 ن)



يَمَلِكُ تَمِيمٌ فِي حَصَالَتِهِ هَذَا الْمَبْلَغَ الْمُمَثَّلَ بِالصُّورِ.

- 1) كَمْ يَمْلِكُ تَمِيمٌ؟ دج
- 2) إِشْتَرَى تَمِيمٌ مُصْحَفًا بِ 200 دج، كَمْ بَقِيَ مَعَهُ؟
- 3) أَرَادَ تَمِيمٌ أَنْ يَشْتَرِيَ مِصْحَفًا آخَرَ أَكْبَرَ مِنَ الْأَوَّلِ لِجَدَّتِهِ ثَمَنَهُ 300 دج هَلْ يُمَكِّنُهُ ذَلِكَ؟ اِشْرَحْ ذَلِكَ بِإِخْتِصَارٍ.

الأجوبة

الحل

العمليات

- بقي مع تميم مبلغ: دج

لأنَّ