

2017 /2016

(إختبار في التربية العلمية والتكنولوجية للسنة الثانية)

اللقب : الإسم : من إعداد الفريق التربوي

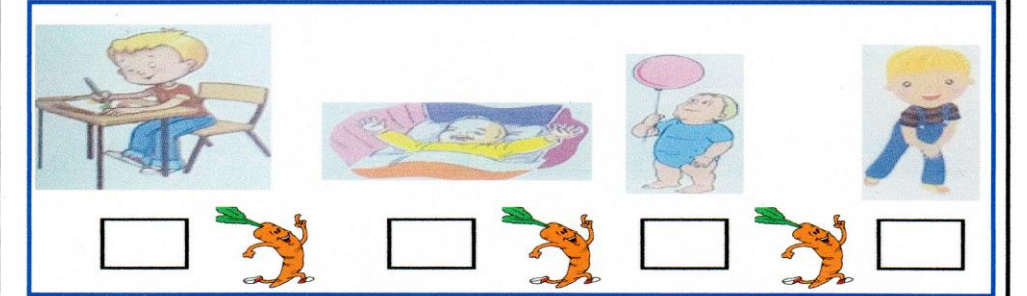
التمرين الأول (02 ن) : أملأ الفراغ بـ : **ينخفض - يرتفع** .
 * أثناء الشهيق يدخل الهواء إلى جسمي ف صدري .
 * وعند الزفير يخرج الهواء منه ف صدري .

التمرين الثاني (01 ن) : ضع إشارة (+) في الخانة المناسبة .
 * أنا أنمو باستمرار فيزداد :


وزني	لساني	طولي
------	-------	------

التمرين الثالث (02 ن) : أقرأ ثم أكمل :
 * لكي يعيش النبات الأخضر وينمو يحتاج إلى
 * النبات يمتص الماء بواسطة

التمرين الرابع (02 ن) : رتب مراحل نمو الطفل من الأصغر سناً إلى الأكبر سناً



التمرين الخامس (03 ن) : لاحظ الرسم ثم أكمل البيانات :



بالتوفيق انتهى

2017 /2016

(إختبار في التربية العلمية والتكنولوجية للسنة الثانية)

اللقب : الإسم : من إعداد الفريق التربوي

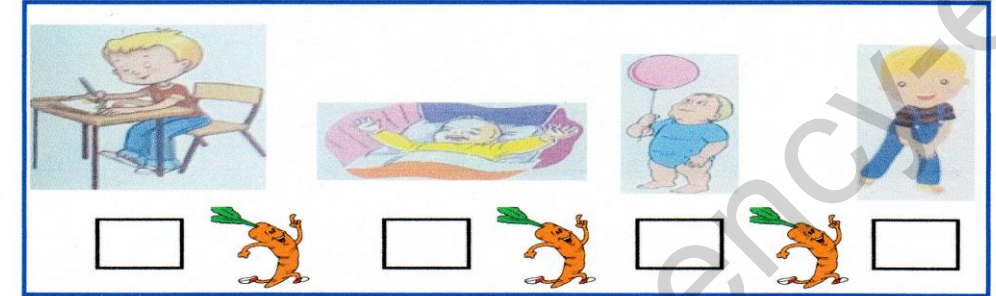
التمرين الأول (02 ن) : أملأ الفراغ بـ : **ينخفض - يرتفع** .
 * أثناء الشهيق يدخل الهواء إلى جسمي ف صدري .
 * وعند الزفير يخرج الهواء منه ف صدري .

التمرين الثاني (01 ن) : ضع إشارة (+) في الخانة المناسبة .
 * أنا أنمو باستمرار فيزداد :


وزني	لساني	طولي
------	-------	------

التمرين الثالث (02 ن) : أقرأ ثم أكمل :
 * لكي يعيش النبات الأخضر وينمو يحتاج إلى
 * النبات يمتص الماء بواسطة

التمرين الرابع (02 ن) : رتب مراحل نمو الطفل من الأصغر سناً إلى الأكبر سناً



التمرين الخامس (03 ن) : لاحظ الرسم ثم أكمل البيانات :



بالتوفيق انتهى