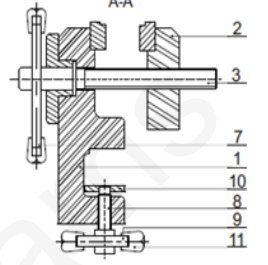
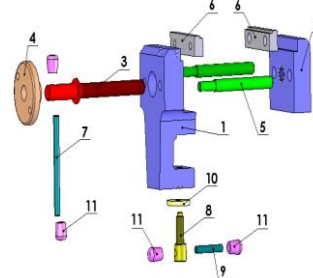
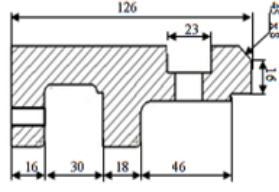
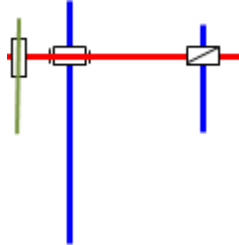
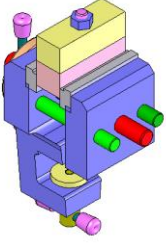


الاختبار الأول في مادة التكنولوجيا

1*- أذكر انواع الرسومات التقنية التالية 3ن



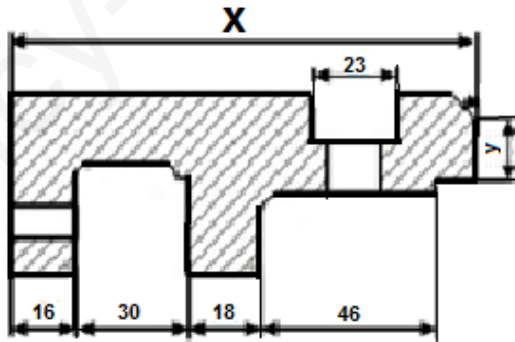
شكل 1: شكل 2: شكل 3: شكل 4: شكل 5:

2*- لرسم منتج يجب اختيار المقياس المناسب و المقاس ، أكمل مع إعطاء مثال 1ن
يريد مدير ثانوية تصليح كراسي الأقسام حيث يتمثل إصلاحها في تثبيتها لهذا توجب عليه إحضار جهاز يسمى الملزمة فتوجه إلى مؤسسة A ليشتري ملزمة (انظرالى الشكل 5) فلم يجد الجهاز متوفر فطلب من المسؤول عن المؤسسة A توفير له كمية فتواصل المسؤول عن المؤسسة A مع المسؤول في المؤسسة B لإنجاز هذه الكمية.

- أعطي صنف المؤسسات التالية ؟ الثانية: :A :B

3* - صنف المؤسسات التالية حسب طبيعة الاحتياج بوضع علامة X 3ن

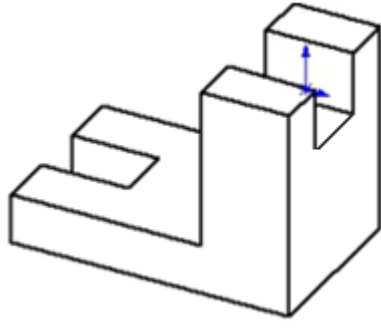
إنتاجية	تجارية	خدماتية	
			محطة البنزين
			مركب الاسمنت
			البلدية
			دكان
			صيدلية
			مركب الحليب و مشتقاته
			وكالة موبيليس



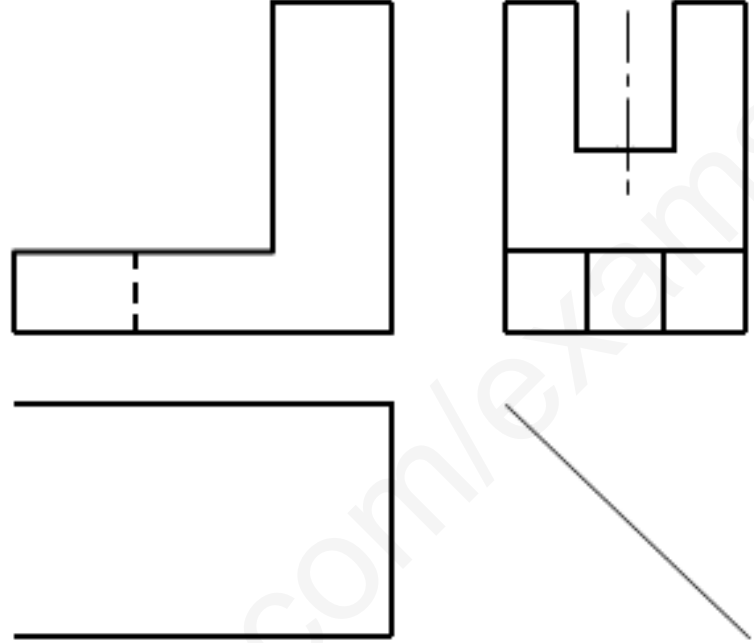
الشكل (6)

4*- حسب الشكل 6 الموالي مرسوم : 1ن

- 1-4 احسب المقياس المستعمل للرسم ؟
- 2-4 احسب القيمة الحقيقية X
- 3-4 احسب القيمة الحقيقية y



الشكل (7)



*5- العمل المطلوب: 8ن

1- لون الوجه الرئيسي. (01.5 ن)

2- أتمم المساقط الناقصة (03 ن)

3- سجل أسماء المساقط (01.5 ن)

6- اعطي الخطوات المتبعة لرسم الشكل (7) باستعمال البرمجية (Solid Works): 04ن

