

أولا: التاريخ

الجزء الأول: (06 نقاط)

- 1 - عرف المصطلحات التالية: - الدومينيون - الكفاح التحرري - اللاعنف - 3 ن
2 - أكمل الجدول التالي: 01,5 ن

التاريخ	الحدث
	مؤتمر باندونغ
02 نوفمبر 1917	
	استقلال الهند وباكستان

- 3 - على الخريطة العالم المرفقة وقع دولتين استعماريتين وحدد لكل منهما مستعمرتين. (اضبط أسماء الدول) 01,5 ن

الجزء الثاني: (04 نقاط)

الإشكالية : عرفت الشعوب المستعمرة حركة طالبت من خلالها إصلاح أوضاعها المتدهورة نتيجة الهيمنة الاستعمارية ثم تطورت إلى حركات تحررية بعد ح.ع, 11، تطالب بتقرير المصير ورفض كل أشكال الهيمنة. الوثيقة 1: صرح أمين سابق للأمم المتحدة " تريجنى لي": >> ... إن عهد الرجل الأبيض في آسيا قد انتهى و لم يعد له سوى إفريقيا، وهذه إفريقيا تفيق من سباتها و تطالب بحرياتها حتى تلحق بركب الحضارة التي يعمل الاستعمار على تعطيل سيرها << <<

الوثيقة 2: >>... إن شراسة الاستعمار التي عرفتها شعوب إفريقيا، ولهذا كانت ردود الفعل لدى شعوب المستعمرات في القارتين واحدة تمثلت في الكفاح المسلح و النضال المستمر بالإضافة إلى النشاط السياسي و الدبلوماسي الذي خاضته هذه الشعوب للتعريف بقضاياها العادلة على مستوى القارتين إفريقيا و آسيا...>> ك م / ص 31

التعليمية: انطلاقا من الوثائق واعتمادا على مكتسباتك القبلية، أكتب مقالا تاريخيا تبين فيه ما يلي:

- (أ) - فيما تشاركت حركات التحرر.
(ب) - وإلى ماذا كانت تطمح.

ثانيا: الجغرافيا

الجزء الأول: (06 نقاط)

- 1 - عرف المصطلحات التالية: - الموقع الفلكي - جيوسياسي - الامتداد الجغرافي. 3 ن
2 - أليك جدول يمثل تعداد سكان دول المغرب العربي (تقديرات 2016 بالمليون نسمة). 2 ن

البلد	الجزائر	المغرب	تونس	ليبيا	موريطانيا
عدد السكان	40,4	34	11,4	6,4	3,7

- المطلوب: أ) مثل معطيات الجدول بلعمدة بيانية في مجال واحد. مقياس الرسم: 1سم ← 5 م/ن
1سم ← دولة.

(ب) علق على الرسم.

- 3 - على خريطة الجزائر المرفقة، وقع سلسلتي الأطلس و كتلة الهقار، و3 مدن ذات كثافة سكانية عالية. 1 ن

الجزء الثاني: (04 نقاط)

الإشكالية : إن امتداد الجزائر على طول الضفة الجنوبية الغربية للبحر المتوسط و احتلالها مساحة هامة من شمال إفريقيا جعلها عنصر فعال....

الوثيقة 1: "...الجزائر على مر التاريخ جزء من حضارات فاعلة في منطقة البحر المتوسط و لا زالت حاليا تستفيد من الوافرات و المزايا الاقتصادية و الإستراتيجية لمنطقة البحر المتوسط احد أهم المحاور للتبادل الدولي و منطقة حساسة في السياسة العالمية.."

الوثيقة 2: "...لوقع الجزائر أهمية إستراتيجية و خصائص حيوية تجمع بين ميزات نادرة استمدتها من موقعها.."

المطلوب: انطلاقا من الوثائق واعتمادا على ما درست و مكتسباتك، أكتب مقال جغرافيا تبرز فيه:

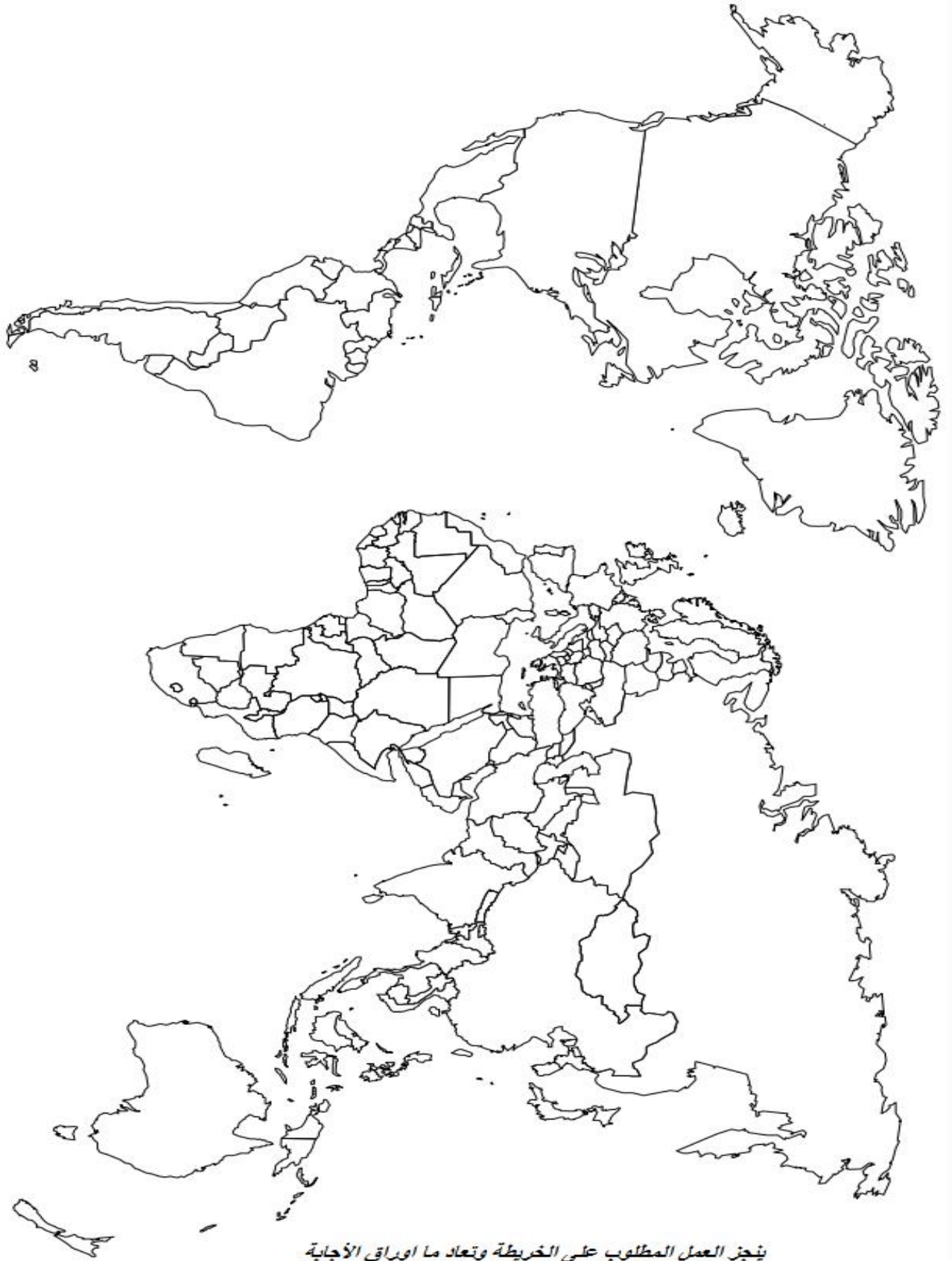
(أ) حدد موقع الجزائر (جغرافيا - فلكيا)

(ب) أهمية موقع الجزائر.

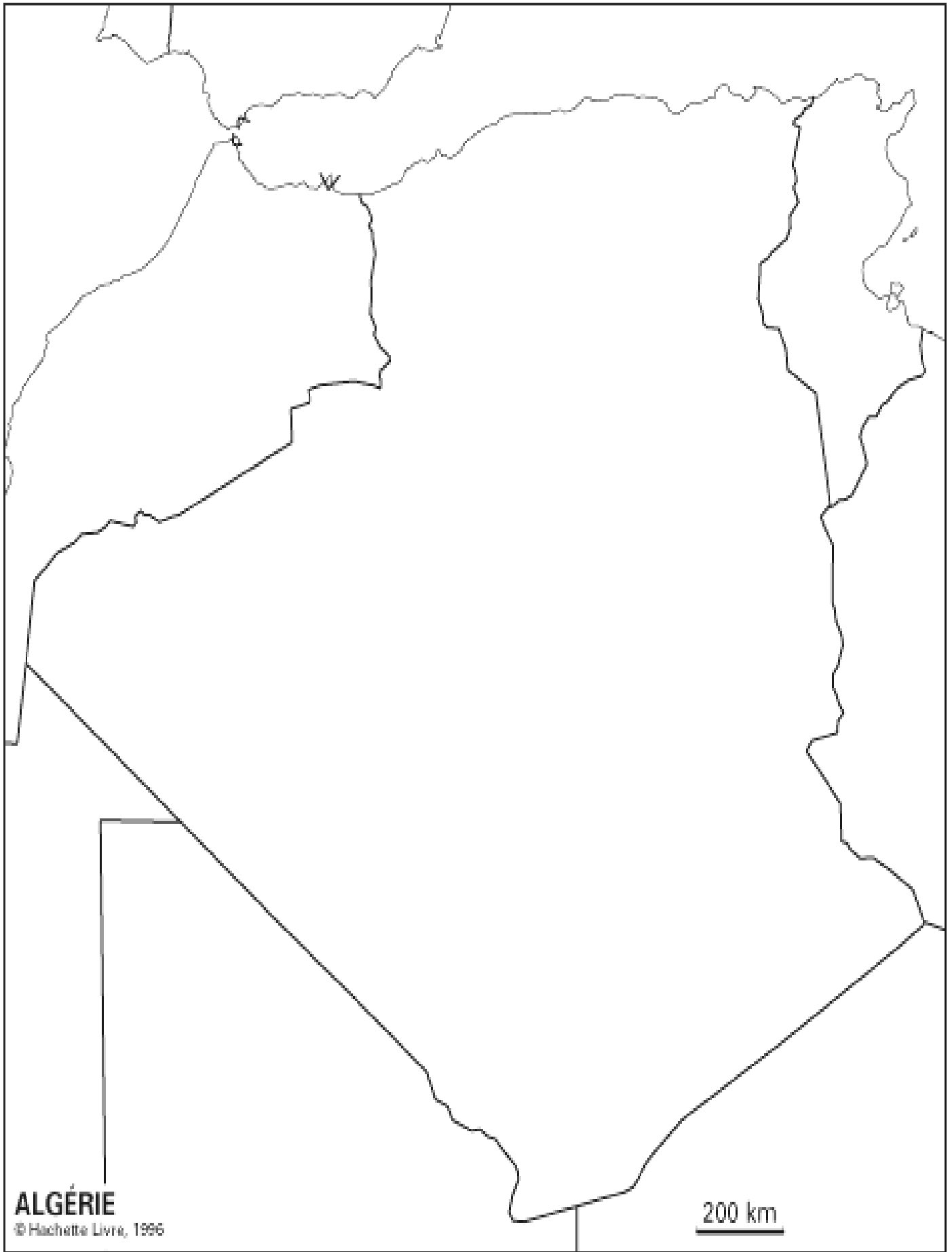


الابتسامه تصنع المعجزات

حكمة: سأل الممكن المستحيل: أين تقبم؟ فأجابته: في ألام العاجز.



ينجز العمل المطلوب على الخريطة وتعاد ما اوراق الأجابة



العلامة

أولاً: التاريخ

ك

ج

الجزء الأول: (06 نقاط)

1 * تعريف المصطلحات:

1

1

- **الدومينيون**: مستعمرة استطان تتوفر على نسبة هامة من السكان الأوربيين تتمتع بحكم ذاتي، تميزت به بريطانيا
- **الكفاح التحرري**: نشاط مقاوم ظهر بلمستعمرات واتخذ أشكالا مختلفة سياسية أو عسكرية أو الاثنين معا لرفض الاستعمار بلشكاله
- **اللاعنف**: وسيلة من وسائل العمل السياسي والاجتماعي تستبعد القوة في الوصول إلى أهدافها وتقوم على أساس الاعتراف بالآخر

3

1

1

2 * الجدول:

الحدث	تاريخه
مؤتمر باندونغ	24/18 أفريل 1955
وعد بلفور	02 نوفمبر 1917
استقلال الهند وباكستان	1947

(1,5=6x0,25)

3 * التوقيع على الخريطة دولتين استعمارييتين وحدد لكل منهما مستعمرتين.

الجزء الثاني: (04 نقاط)

0,5

2

4

1

مقدمة: لكل فعل رد فعل
عرض المميزات: 1 رفضها للوجود الاستعماري و بكل أشكاله 2 تعدد الأطراف التي حاربتها (الاستعمار. الأنظمة العميلة) 3 تبني الشعوب لأهداف حركات التحرر و احتضانها 4 تنوع وتعدد وسائل الكفاح التحرري 5 التزام التاريخي وتبادل التأثير بينها 6 إسهامها في إضعاف الاستعمار التقليدي 7 تحقيقها لأهدافها وتمكنها من انتزاع الاعتراف الدولي بمشروعيتها
8 تركيزها على الكفاح السلمي السياسي بين الحريين و على الكفاح العسكري المسلح بعد ع 2
الأهداف: 1 إنها الوجود الاستعماري بكل أشكاله 2 التخلص من الأنظمة العميلة المرتبطة بالاستعمار 3 تحقيق الاستقلال الكامل و السيادة الشاملة على الأرض و الثروات 4 محاولة تجنب صراع الحرب الباردة (الحياد الإيجابي)
5 السعي لتحقيق التضامن بين القوى التحررية من خلال المؤتمر الأفرو آسيوي باندونغ 20 أفريل 1955
خاتمة: لولا كفاح التحرر لما تحررت الدول المستضعفة.

ثانياً: الجغرافيا الجزء الأول: (06 نقاط)

1 * تعريف المصطلحات:

1

1

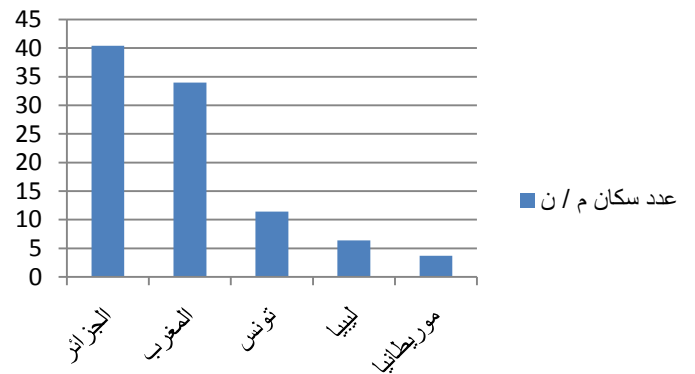
3

1

- **الموقع الفلكي**: موقع إي منطقة بالنسبة لدوائر العرض و خطوط الطول.
- **جيو سياسي**: العلاقة بين السياسة والجغرافيا و الاقتصاد و العلاقات الخارجية للأمة بالنسبة لمختلف الأبعاد ...
- **الامتداد الجغرافي**: الأبعاد المكانية لمنطقة ما من الشرق إلى الغرب ومن الشمال إلى الجنوب.

2 * التمثيل البياني و التعليق

أعمدة بيانية توضح تعداد سكان المغرب العربي 2016



التعليق:

الجزائر هي أكبر دول المغرب من حيث التعداد تليها المغرب،

1,5

2

0,5

1

0,5

3 * التوقيع على الخريطة سلسلتي الأطلس و الهقار و 3 مدن كثافتها مرتفعة.

الجزء الثاني: (04 نقاط)

0,5

1

4

2

0,5

مقدمة: الجزائر البلد القارة.
عرض: 1 - موقع الجزائر: تقع في الجزء شمال غربي لإفريقيا بين دائرتي عرض 18° 38° ش و بين خطي طول 12° شرقا 9° غ يحدها شمالا البحر المتوسط شرقا تونس و ليبيا غربا المغرب الصحراء الغربية جنوبا النيجر مالي موريتانيا
2 - إبراز أهمية الموقع: - الامتداد من العروض الحارة إلى العروض المعتدلة مما أسهم في تنوع المناخ - يمر مدار السرطان جنوبها و خط غرينتش غربها- محور اتصال بين جهتين شرقية و غربية للمغرب العربي - جسرا طبيعيا إلى العالم العربي والإسلامي- إشراف على واجهة بحرية إستراتيجية جعلت منها محور تبادل وتعاون مع أوروبا و همزة وصل بين القارتين إفريقيا و أوروبا و بوابة إفريقيا الشمالية- تتوسط العالم القديم و ملتقى الطرق التجارية البرية البحرية
خاتمة: الجزائر بمؤهلاتها و إمكانياتها و شبابها تستطيع ان تكون بلدا رائد.