

استغل علماء الجيولوجيا والجيوفيزياء خصائص الموجات الزلزالية للتعرف على بنية الكرة الأرضية.

تنتشر الموجات الزلزالية بسرعات مختلفة في صخور الكرة الأرضية، حيث مكن قياس سرعتها حسب العمق من الحصول على الوثيقة التالية:



1- تعرف على طبقات الأرض الممثلة بالأعماق: (0-50 كلم)/(50-125 كلم)/(125-150 كلم)، ثم حدد موقع هذه الأعماق هل هي تحت القارة أم المحيط.

2- اعتمادا على مكتسباتك اكتب نصا علميا دقيقا تشرح فيه كيف سمح استغلال الموجات الزلزالية ببناء نموذج للكرة الأرضية. مدعما إجابتك برسم تخطيطي بسيط لنموذج سيسمولوجي للكرة الأرضية يبرز مختلف طبقات الأرض وخصائصها الفيزيائية، والانقطاعات التي تحدها.

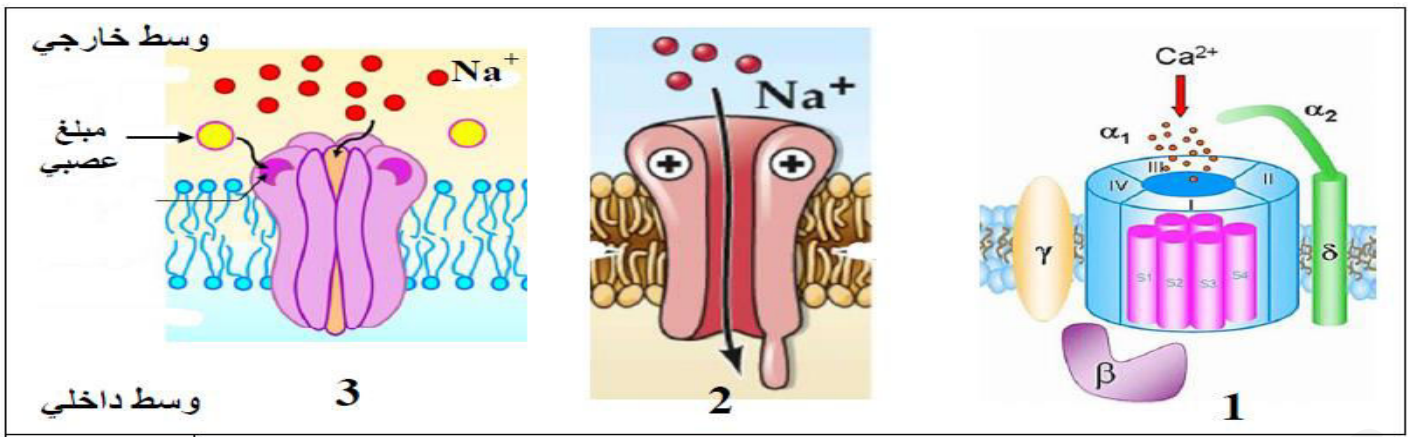
التمرين الثاني (7 نقاط)

القواقع المخروطية (Cone Snails) البحرية، حيوانات جميلة تتواجد خاصة في المحيط الهادي، تستخدم في صيدها سم، يشل فريستها (هذا السم مميت بالنسبة للإنسان) • يحتوي السم على العديد من البيبتيدات، لكن إحدى هذه البيبتيدات، أكثر فعالية مسببة صعوبة في التنفس بسبب شلل عضلات الحجاب الحاجز، فقدان التنسيق الحركي و فشل القلب لمعرفة آلية تأثير سم هذه القواقع، نقترح عليك الدراسة التالية:

الجزء الاول:

تلعب البروتينات دور اساسي في انتقال الرسالة العصبية على مستوى المشبك. تظهر الوثيقة 1 ثلاثة انواع مختلفة من البروتينات المتواجدة على مستوى المشبك.





الوثيقة 1

- 1 - تعرف على البروتينات الغشائية (1, 2, و3) ثم حدد أهم مميزاتهما .
- 2 - اقترح فرضيتين لتفسير آلية تأثير سم القواقع المخروطية .

الجزء الثاني:

بغرض التحقق من صحة إحدى الفرضيتين المقترحتين نحقق باستعمال التركيب التجريبي المبين في الوثيقة 2 ,

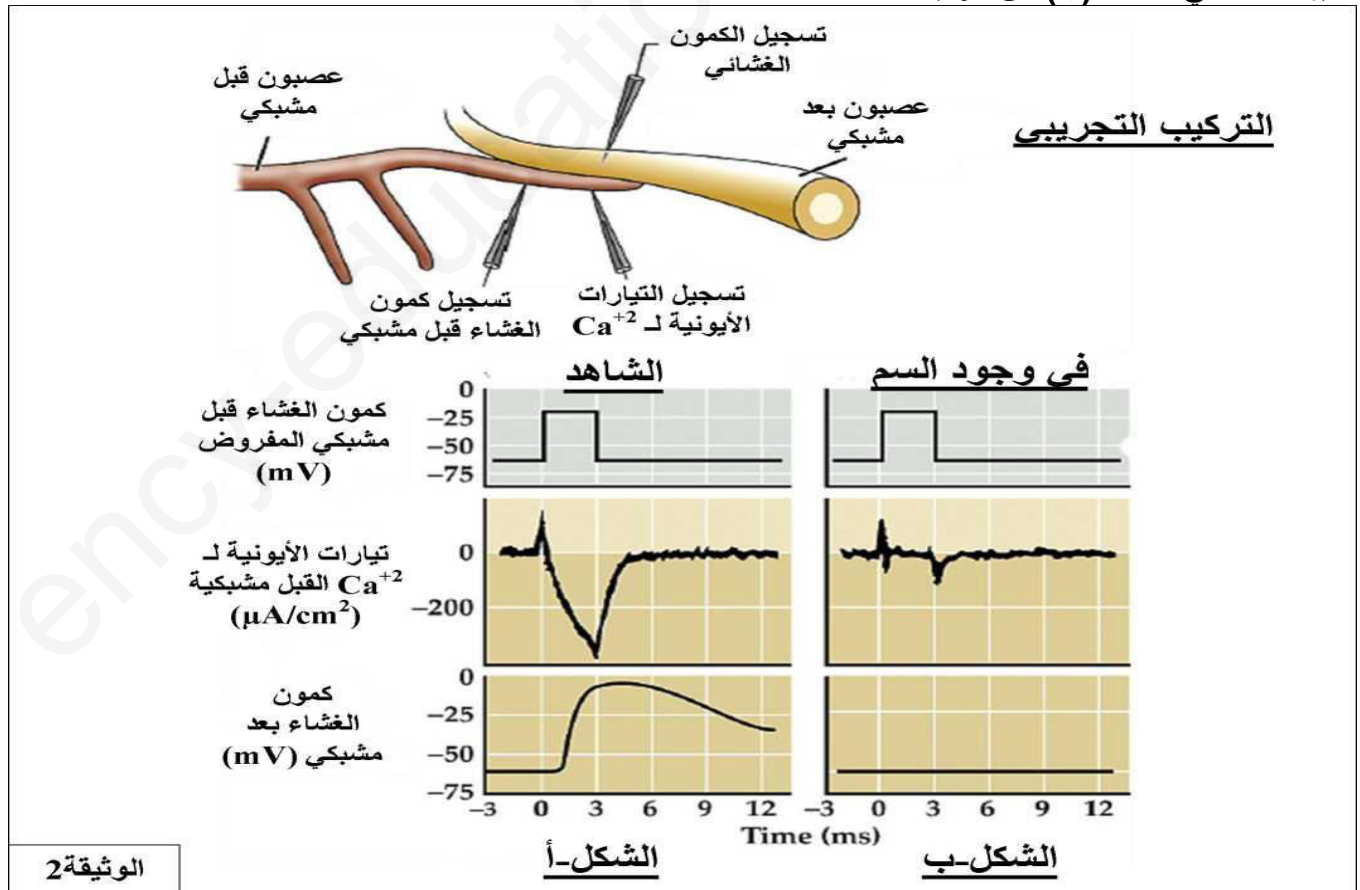
التجارب التالية :

التجربة 1 :

تنبيه الليف العصبي قبل مشبكي بتطبيق كمون اصطناعي مفروض , ثم نسجل في آن واحد التدفق الأيوني لشوارد Ca^{++} الداخلة و الظواهر الكهربائية الناتجة على مستوى الغشاء قبل و بعد مشبكي , التسجيلات المحصل عليها ممثلة في الشكل (أ) .

التجربة 2

نعيد التجربة السابقة باستعمال نفس التركيب التجريبي ولكن في وجود سم القواقع المخروطية . التسجيلات المحصل عليها ممثلة في الشكل (ب) من الوثيقة 2



الوثيقة 2

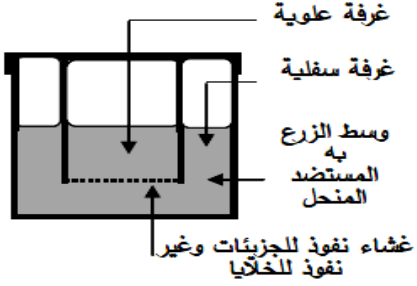
- 1 - حدد القيمة التقريبية للكمون المطبق المفروض على الغشاء قبل مشبكي.
- 2- انطلاقاً من تسجيلات الشكل (أ) من الوثيقة 2، اشرح العلاقة بين الكمون المفروض على الغشاء قبل مشبكي والكمون المسجل على مستوى الغشاء البعد مشبكي.
- 3- انطلاقاً من تسجيلات الشكل (ب) وبتوظيف النتائج التي توصلت إليها ، صادق على صحة إحدى الفرضيتين المقترحتين سابقاً.
- التمرين الثالث: (8 نقاط)

يعتقد الكثير أن القضاء على فيروس **RSV** المسبب للزكام يتم بتناول المضادات الحيوية ، إلا أن الجسم يستطيع التغلب على الفيروس بتدخل الجهاز المناعي بعد أيام من الإصابة. ولفهم الآليات التي يبديها الجسم لمقاومة هذا الفيروس أنجزت الدراسة التالية:

الجزء الأول:

تم إستئصال الغدة السعترية (التيوسية) لفئران ثم عرضت للأشعة السينية (X) المخربة للنخاع العظمي ثم وزعت في مجموعات. الشروط والنتائج التجريبية ممثلة في جدول الشكل (أ) من الوثيقة 1.

ومن أجل فهم أكثر للنتائج الواردة في جدول الشكل (أ) من الوثيقة 1 أنجزت تجربة ثانية، تتمثل في وضع خلايا لمفاوية محسنة بمستضد **RSV**. التجربة ونتائجها ممثلة في الشكل (ب) من الوثيقة 1.

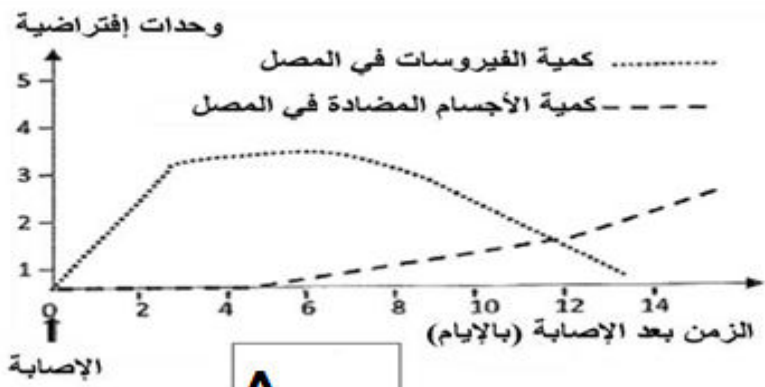
المجموعة 5 لم تتلق أي معالجة من قبل	استئصال الغدة التيموسية ثم التعريض للإشعاع				المعالجة
	المجموعة 4 حقن خلايا لمفاوية T و B	المجموعة 3 حقن خلايا لمفاوية T و B	المجموعة 2 حقن خلايا لمفاوية T	المجموعة 1 حقن خلايا لمفاوية B	
نعم	لا	نعم	نعم	نعم	حقن الـ RSV
قطرة من مصل الفأر + الـ RSV					بعد أسبوع من الحقن
+++++	-----	+++++	-----	---+---	تراص RSV
الشكل (أ)					
تركيز الأجسام المضادة	طبيعة اللمفاويات الموضوعة في الغرفة		التجارب		
	الغرفة السفلية	الغرفة العلوية			
+++++	لمفاويات T و B	لا توجد	1		
---+---	لمفاويات B	لا توجد	2		
+++++	لمفاويات B	لمفاويات T	3		
-----	لمفاويات T	لا توجد	4		
الشكل (ب)					

الوثيقة 1

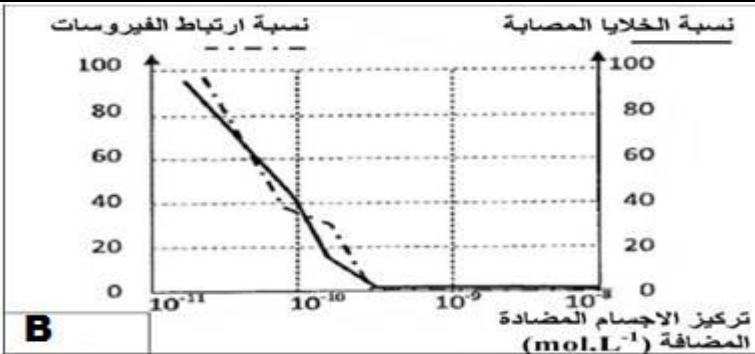
- 1- علل إستئصال الغدة التيموسية وتخریب النخاع العظمي للفئران.
- 2 - فسر النتائج التجريبية للمجموعات (1-2-3-4) المحصل عليها في الشكل (أ) ماذا تستنتج ؟
- 3) بالاستعانة بالنتائج التجريبية الممثلة بالشكل (ب) اشرح العلاقة بين الخلايا للمفاوية .

الجزء الثاني:

لإبراز بعض مظاهر الاستجابة المناعية ضد فيروس الزكام ، نقترح المعطيات التالية :

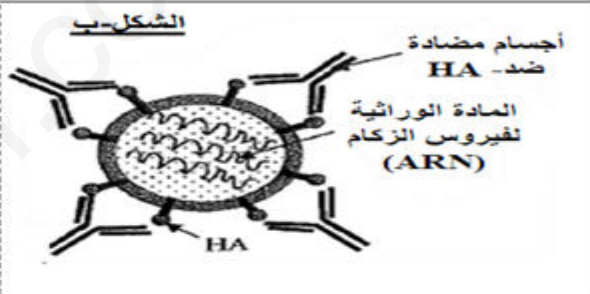
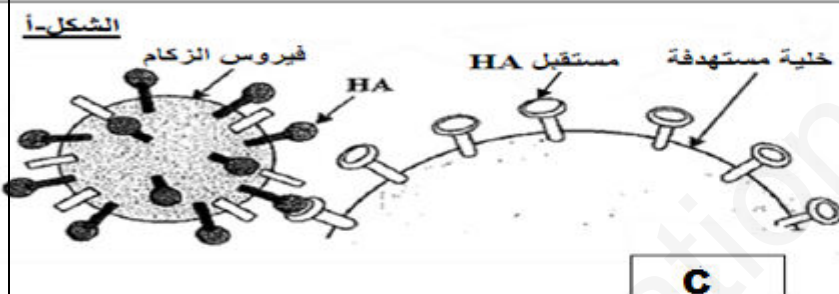


الزكام إصابة فيروسية من بين أهم أعراضه الحمى ,
 الاعياء سيلان الأنف آلام الحنجرة والصداع.
 يتميز فيروس الزكام بتوفره على جزيئات غشائية من بينها
 جزيئات غليكوبروتينية تسمى **Hémagglutinines**
 يرمز لها بـ HA. تسمح هذه الجزيئة بارتباط الفيروس
 بالخلية المستهدفة وتكاثره على حسابها. تقدم الوثيقة (A)
 نتائج تتبع كمية كل من فيروس الزكام والأجسام المضادة
 ضد- HA, عند شخص أصيب بالزكام .



تم تحضير أوساط زرع تحتوي على أجسام
 مضادة ضد- HA بتركيز متصاعدة أنتجت خلال الإصابة
 بفيروس الزكام وبعد ذلك تم قياس نسبة ارتباط فيروس
 الزكام بخلاياه المستهدفة ونسبة الخلايا المصابة بدلالة
 تركيز الأجسام المضادة ضد- HA . النتائج المحصل عليها
 ممثلة في الوثيقة (B)

الشكل (أ) من الوثيقة C كيفية ارتباط فيروس الزكام بالخلايا المستهدفة ويمثل الشكل (ب) كيفية ارتباط الأجسام المضادة ضد- HA بفيروس
 الزكام .



المطلوب: بالاعتماد على المعطيات: (A.B.C) اثبت بواسطة أدلة علمية أن إقصاء فيروس الزكام يعود إلى
 عدم قدرة الفيروس على التكاثر على حساب الخلايا المستهدفة.