



الجمهورية الجزائرية الديمقراطية الشعبية

وزارة التربية الوطنية

ثانوية بن عدة بن عودة

مديرية التربية لولاية غليزان

دورة 2021

اختبار الفصل الاول

الشعبة: علوم تجريبية

تحت إشراف الاساتذة

بوعجمي خالد

صفيح عبد الصمد

مفتش التربية الوطنية بورعه عبد القادر

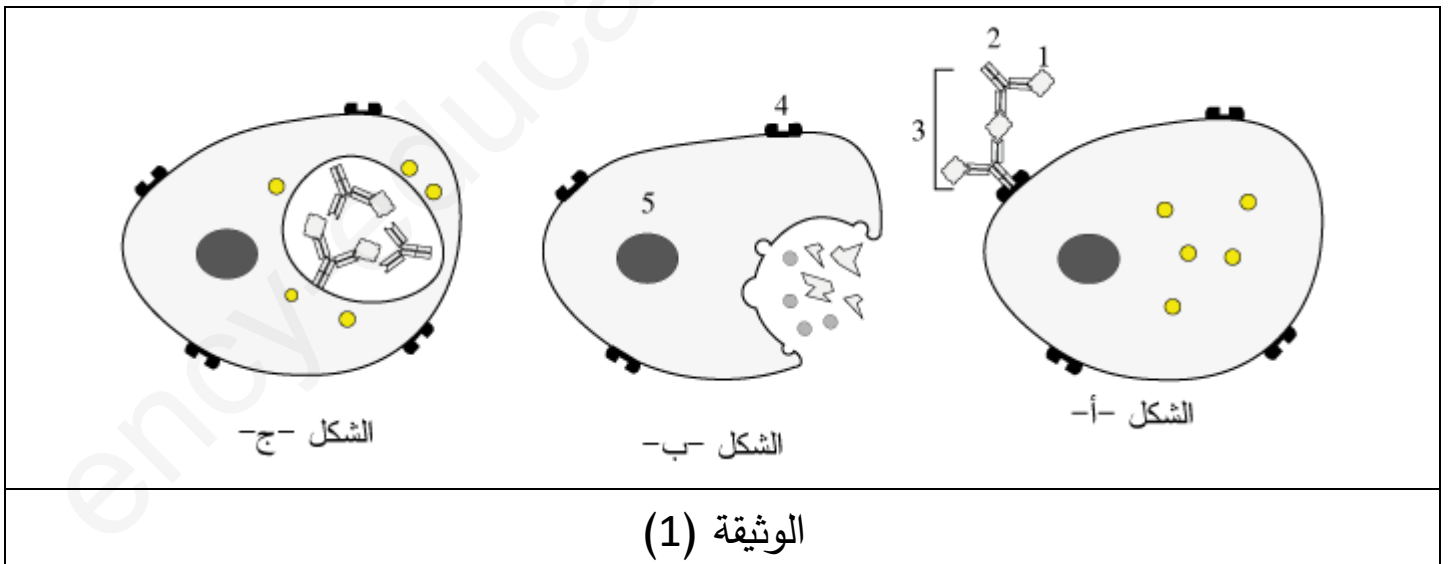
المدة: 3 سا و 30 د

اختبار في مادة علوم الطبيعة والحياة

يحتوي الموضوع على 6 صفحات

التمرين الأول: (5 نقاط)

تستجيب العضوية عند دخول أي جسم غريب باستثارة استجابة مناعية تتمثل في آلية محددة يتم خلالها حدوث العديد من المراحل تنتهي بإنتاج بروتينات عالية التخصص من شأنها القضاء على اللدات ومن أجل معرفة إحدى هذه المراحل الأساسية ودور البروتينات فيها نقدم اليك للوثيقة (1).



1- تعرف على البيانات المرقمة في الوثيقة (1) والمرحلة التي ينتمي إليها كل شكل بالترتيب

2- من معارفك الخاصة ومعلوماتك أكتب نص علمي تبرز فيه دور البروتينات الممثلة في الوثيقة (1) في إقصاء المستضد .

التمرين الثاني: (7 نقاط)

يمثل كل فرد وحدة بيولوجية خاصة أساسها جزيئات غليكوبروتينية تقع على أغشية خلايا مختلفة تنتمي الى نظام معين يعتمد على توافقها بين الأشخاص زرع الطعوم أو نقل الدم وكمثال عن ذلك نقدم دراسة مشكل التوافق في الزمر الدموية والتنوع الحاصل والمستمر فيها.

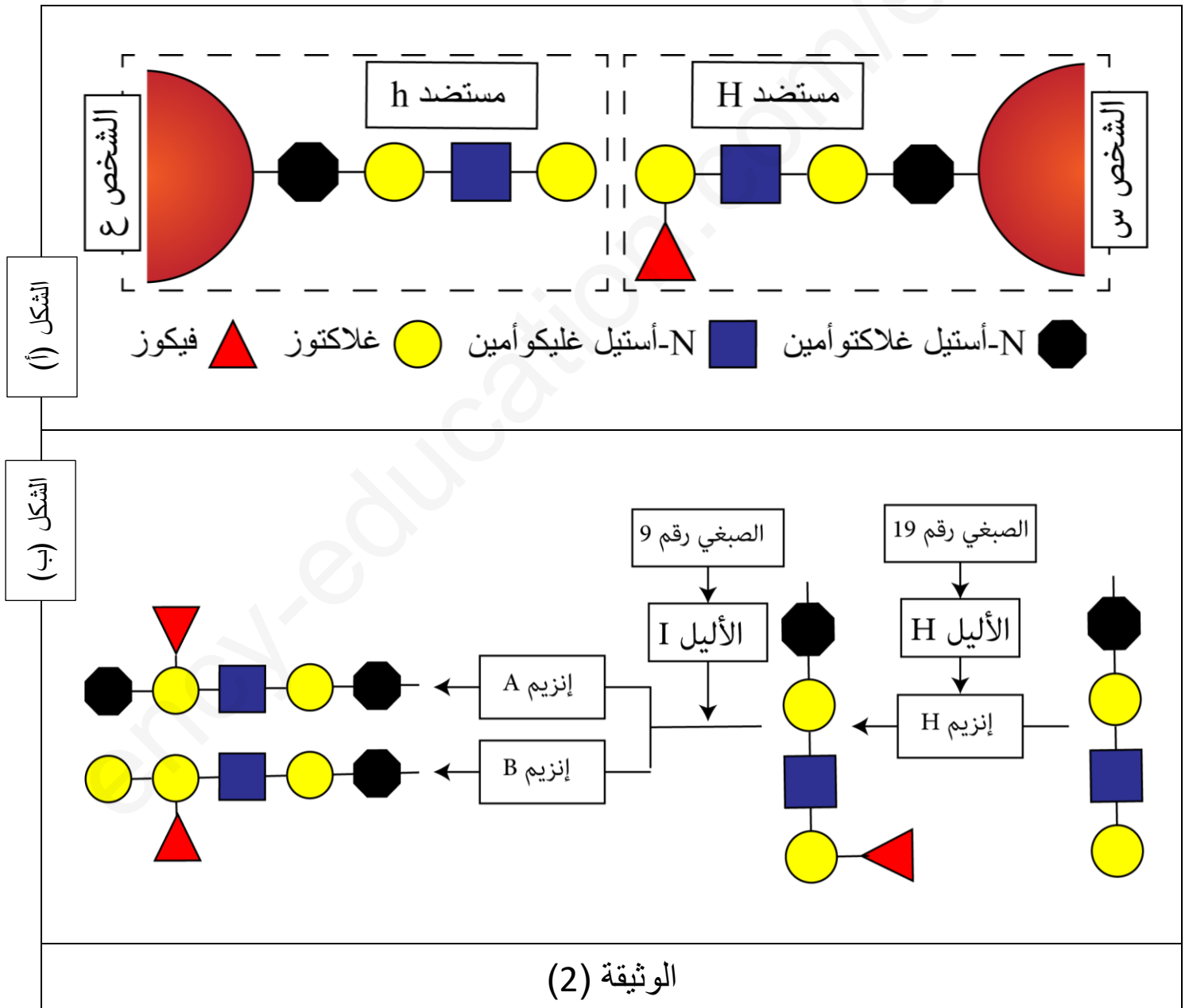
الجزء الأول: نقوم بسحب عينة دم من شخصين (س) و (ع) وهذا من أجل تحديد نوع الزمرة التي ينتمي اليها كل شخص من خلال إجراء نوعين من الاختبارات: اختبار تم خلالها استعمال الامصال أما اختبار الثاني استعملت الكريات الدم الحمراء والنتائج المحصل عليها ممثلة في الوثيقة (1)

	إختبار كريات الدم الحمراء	إختبار الامصال
الشخص س	كريات دم حمراء O B A 	ضد A ضد B ضد A+B
الشخص ع		
	زمرة دموية ?	عدم إرتصاص إرتصاص

الوثيقة (1)

- 1- حل نتائج الاختبارين ثم استخراج خصائص زمرة الشخصين (س) و (ع)
 2- هل يمكن نقل دم الشخص (س) الى الشخص (ع)؟ علل ذلك مبرزاً المشكل الذي تطرحه
 نتائج الاختبارات الممثلة في الوثيقة (1)

الجزء الثاني: من أجل التعرف أكثر على مميزات الزمرة الدوية للشخص (س) وخاصة (ع) نقوم بدراسة خاصة للمستضدات الغشائية واختصاراً نقوم بنمذجة آخر جزء معروض من المستضد الغشائي والممثل في الشكل (أ) أما الشكل (ب) فيمثل عرض عام يفسر سبب اختلاف الزمر الدموية المختلفة



1-قارن بين المستضدات الغشائية للشخصين (س) و (ع).

2-انطلاقاً من الشكل (ب):

- فسر سبب اختلاف خصائص الزمرة الدموية للشخصين (س) و(ع)

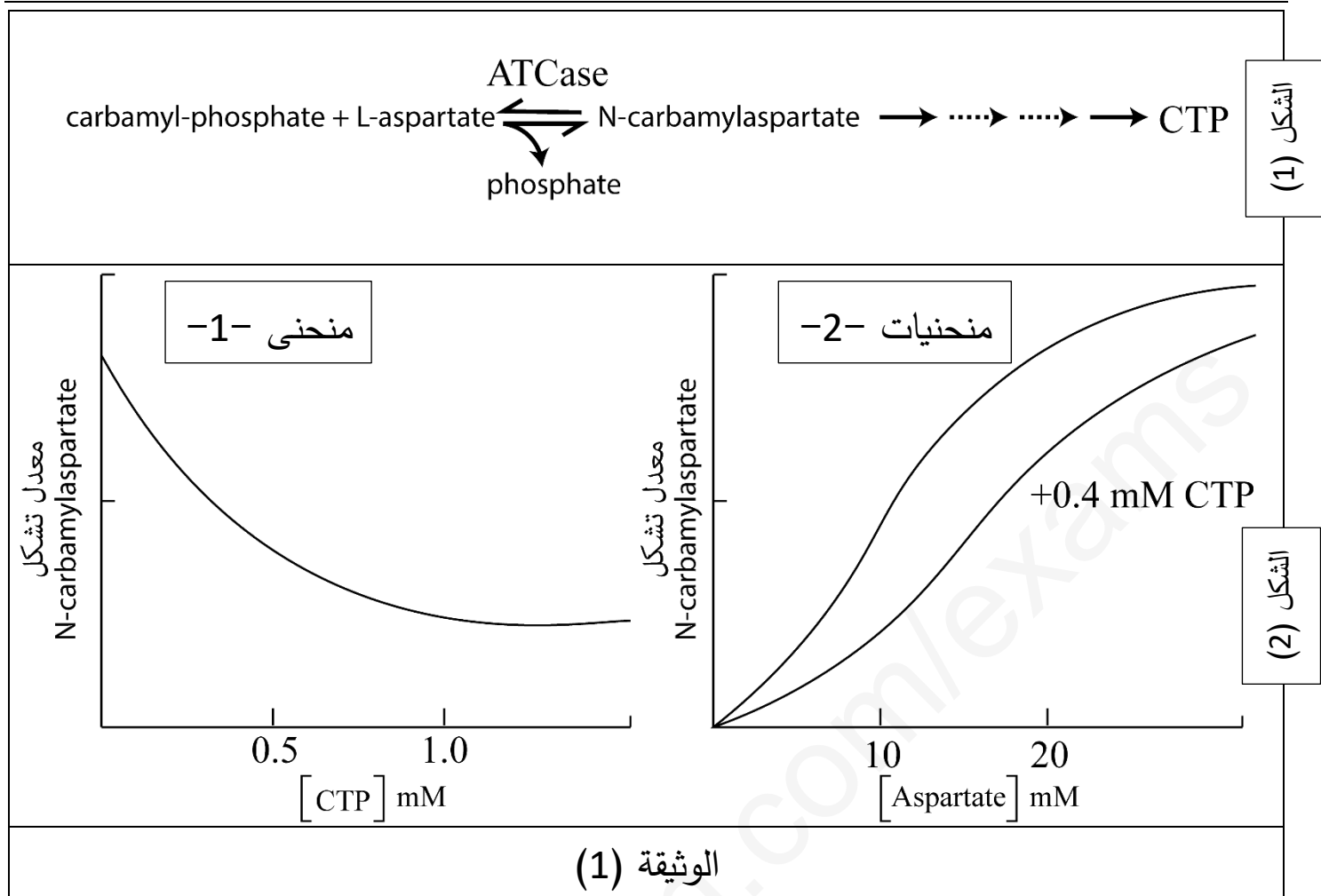
- أقترح حلاً للمشكلة الذي تطرحه اختبارات الزمر الدموية إذا علمت أن الشخص (ع) من فصيلة دم تدعى بومباي.

3-من معلوماتك السابقة ومما توصلت إليه في التمرن بين في مخطط عام حالات التوافق بين مختلف الزمر الدموية مبيناً سبب اختلافها.

التمرين الثالث: (8 نقاط):

تقوم الخلية بتحويل بعض المركبات الكيميائية إلى مركبات وسطية وفي الأخير إلى ناتج معين عبر سلسلة من التفاعلات والتي تتدخل فيها إنزيمات مختلفة حيث أن أي خلل على مستوى هذه السلسلة ينتج عنه تراكم إحدى المركبات الوسطية (توقف سلسلة التفاعل) أو تركيز عالي للناتج (سلسلة تفاعل مستمر) يؤدي في النهاية إلى خلل في الخلية وبالتالي العضوية، تدعى الإنزيمات المتدخلة في هذه التفاعلات بالإنزيمات المنظمة (Enzymes régulatrices) ومن أجل معرفة كيف تقوم وبهذه العملية نقدم إليك الدراسة التالية:

يحفز إنزيم أسبارتات ترنسكارباميلاز أول إنزيمات السلسلة يعرف اختصاراً بـ (ATCase)، تفاعل كرباميل (Carbamyl-P) و أسبارتات (Aspartate) إلى كرباميل-أسبارتات (Carbamylaspartate) والذي يتحول بدوره عبر سلسلة من التفاعلات الإنزيمية الأخرى إلى نيكليوتيدة بيريميدينية ممثلة في (CTP) والتي تدخل في تركيب الأحماض النووية و التفاعل الحاصل ممثل في الشكل (1) من الوثيقة (1) أما الشكل (2) يمثل نتائج تتبع تركيز كل من النسبة المئوية لكرباميل-أسبارتات في وجود تراكيز متزايدة من (CTP) و الاسبارتات.



1- حل المنحنيات الشكل (2)

2- اقترح فرضيتين تفسيرية حول كيفية تنظيم العضوية للتفاعلات الكيميائية المتسلسلة

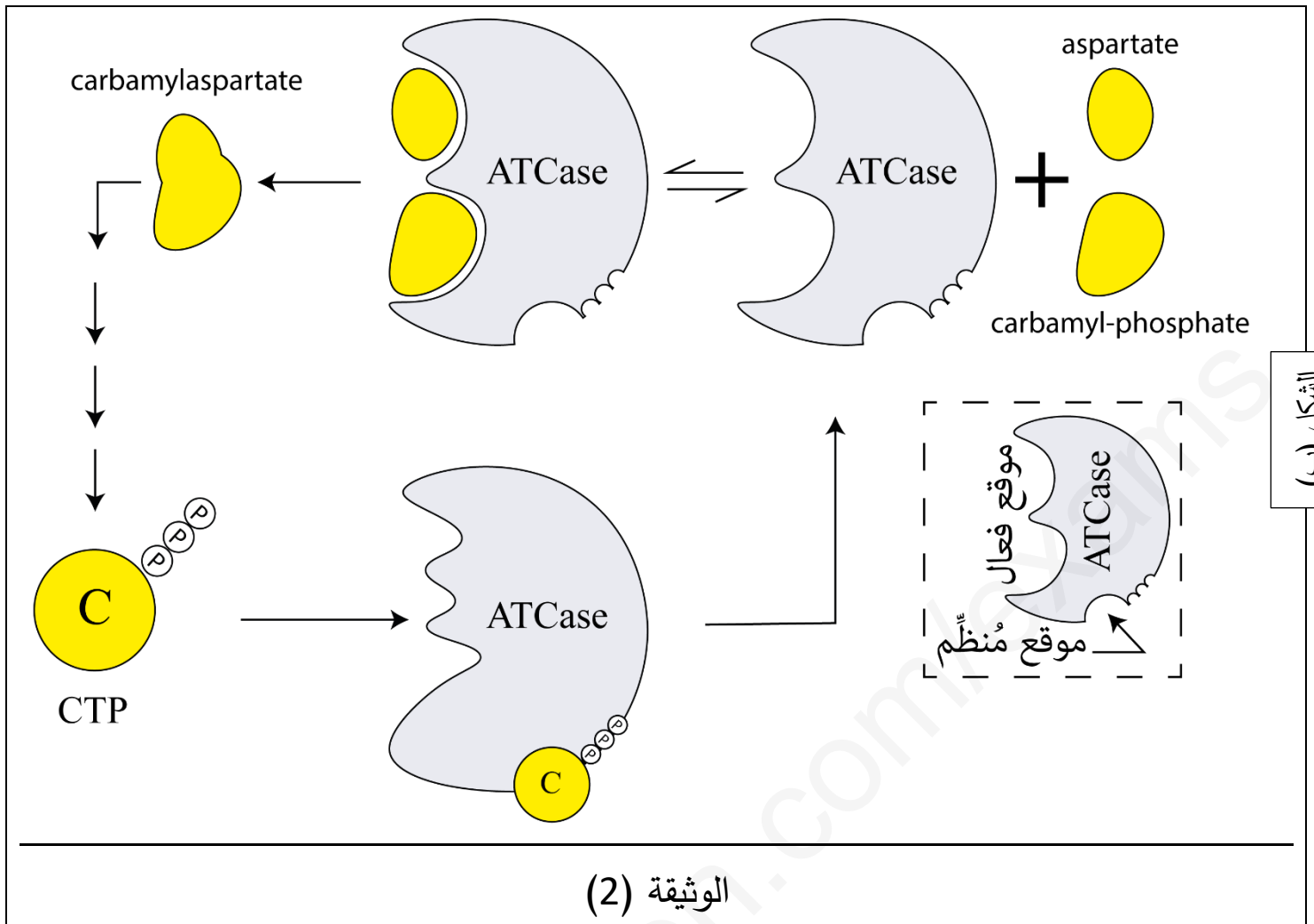
الجزء الثاني:

من أجل التأكد من صحة الفرضية المقترحة قام العلماء بقياس حجم أهم جزء الانزيم والنتائج ممثلة في الشكل (أ) من الوثيقة (2) أما الشكل (ب) فيمثل نمذجة لآلية عمل إنزيم (ATCase) ضمن سلسلة التفاعلات .

وجود الـ CTP	غياب الـ CTP	حجم الموقع الفعال للـ ATCase
541 \AA^3	1898 \AA^3	

A° وحدة قياس قدر بـ 10^{-10} متر

الشكل (أ)



1- ماهي المعلومة الجديدة والتي تقدمها لك شكل (أ) من الوثيقة (2)

2- استغلال الوثيقة (2) وباستدلال علمي ناقش صحة إحدى الفرضيات المقترحة سابقا

الجزء الثالث:

تدعى هذه الانزيمات المنظمة أيضا بأنزيمات الالوستيرية (Enzymes allostérique) أو إنزيمات الموقع الآخر

- من مكتسباتك والمعلومات المقدمة إليك لخص في نص علمي دور الانزيمات المنظمة في تنظيم التفاعلات معللا التسمية.

بالتوفيق للجميع