

المستوى: الثانية ابتدائي

السنة الدراسية: 2021 / 2022

الاسم واللقب: .....

اليوم: ماي 2022 م .....

ورقة عمل في مادة الرياضيات

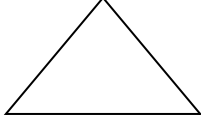


التمرين الأول: أنجز هذه العمليات:

$$\begin{array}{r|l} 245 \\ + 150 \\ \hline = \end{array} \quad \begin{array}{r|l} 512 \\ \times 2 \\ \hline = \end{array} \quad \begin{array}{r|l} 245 \\ - 154 \\ \hline = \end{array} \quad \begin{array}{r|l} 354 \\ \times 3 \\ \hline = \end{array}$$

التمرين الثاني: قارن.

54 . 45 / 541 . 45×4 / 178 . 178 / 554 . 263 / 541 . 545

أكمل الجدول. التمرين الثالث:

عدد الزوايا القائمة	اسمه	الشكل
.....	.....	
.....	.....	
.....	.....	

اشترى خالد محفظة ثمنها 1850 ديناراً ومسطرة بـ 150 ديناراً و الوضعية الإدماجية:  
ثلاثة أقلام ثمن الواحد 20 ديناراً.

- ما هو ثمن الأرقام؟
- ما هو ثمن مشتريات خالد؟

الحل

الأجوبة

العمليات

مدونة الحسام للتربية و التعليم في الجزائر  
www.h-onec.com