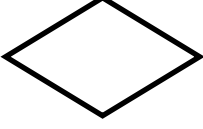
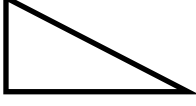



**التمرين الأول : 2 نقاط** أكمل ملء الجدول :

			
			عدد الأضلاع
			اسم المضلع
			عدد الزوايا القائمة

**التمرين الثاني : 2 نقاط** ارسم عقربي الساعات و الدقائق حسب الوقت المسجل :



**التمرين الثالث : أنجز العمليات عموديا 2 نقاط**

$325 \times 24$     /     $527 \times 5$     /     $8621 - 2514$     /     $8542 + 15247$

--	--	--	--

**الوضعية الإدماجية : 4 نقاط**

يملك مربّي المواشي 245 رأسا من الغنم ، إذا كان عدد النعاج 195 نعجة

1 - ما هو عدد الكباش؟

ولدت النعاج 260 خروفا

2 - كم رأسا صار يملك هذا المربي؟

اشترى 10 حزم من التبن بـ 335 دج للحزمة الواحدة

3 - كم ديناراً صرف هذا المربي؟

الأجوبة	العمليات