

فرض الثلاثي الثالث

الرابعة متوسط

القسم : 4 م

اللقب :

الاسم :

التمرين الأول (12 نقطة) بقصد التعرف على نوعية طبيعة سائل موجود بمخبر لمؤسسة قام المخبري بإنجاز النشاط الموضح في الوثيقة

1) فسر سبب نقصان القيمة التي تشير إليها الريبعة عند غمر الجسم في هذا السائل.

الجواب:

2) ماذا تمثل القيمة التي تشير إليها الريبعة في كل حالة؟

الجواب: في الحالة 1 تمثل القيمة 4.45N

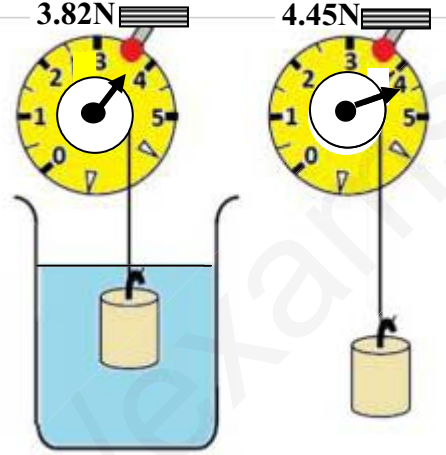
في الحالة 2 تمثل القيمة 3.82N

3) أ) اذكر القوى التي تؤثر على الجسم وهو معلق بالريبعة في الهواء .

الجواب: القوى المؤثرة :

ب) ماهو شرط توازن هذا الجسم وهو معلق في الهواء؟

الجواب؟



4) أ) احسب كتلة الجسم المعلق بالريبعة في الهواء حيث قيمة الجاذبية $g=10N/Kg$

الجواب: القانون: ومنه $m = \frac{F}{g} = \frac{4.45N}{10N/Kg} = 0.445kg$ التطبيق العددي $m = \frac{F}{g} = \frac{3.82N}{10N/Kg} = 0.382kg$

ب) علما أن الكتلة الحجمية للجسم $\rho_{\text{الجسم}} = 8.9g/cm^3$ احسب حجم هذا الجسم بال m^3

الجواب: القانون $\rho_{\text{الجسم}} = \frac{m}{V_{\text{الجسم}}}$ ومنه $V_{\text{الجسم}} = \frac{m}{\rho_{\text{الجسم}}} = \frac{0.445kg}{8.9g/cm^3} = 50cm^3$ التطبيق العددي $V_{\text{الجسم}} = \frac{m}{\rho_{\text{الجسم}}} = \frac{0.382kg}{8.9g/cm^3} = 43cm^3$

ج) استنتج حجم السائل المزاح V_e من طرف الجسم المغمور فيه مع التعليل.

الجواب $V_e = \dots\dots\dots$ لأن $V_e = \dots\dots\dots$

5) أ) ما هي شدة دافعة أرخميدس التي يطبقها السائل على الجسم المغمور فيه؟

الجواب: القانون التطبيق العددي.....

ب) استنتج الكتلة الحجمية للسائل المغمور فيه الجسم .

الجواب : $F_A = \dots\dots\dots$ ومنه $\rho_{\text{السائل}} = \frac{F_A}{V_e} = \frac{0.067N}{50 \times 10^{-6}m^3} = 1354kg/m^3$ التطبيق العددي $\rho_{\text{السائل}} = \frac{F_A}{V_e} = \frac{0.067N}{43 \times 10^{-6}m^3} = 1558kg/m^3$

ج) احسب كثافة هذا السائل بالنسبة للماء .

المادة	الكتلة الحجمية (g/cm^3)
الزئبق	13.54
الزيت	0.9
الغلسيرين	1.26
النحاس	8.9
الألمنيوم	2.7

6) اعتمادا على الجدول التالي حدد من أي مادة الجسم المغمور وماهو السائل المستعمل مع التعليل ؟

الجواب : الجسم المغمور هو من مادة..... لأن.....

السائل المستعمل هو لأن.....

7) في نشاط آخر أراد هذا المخبري أن يتأكد من بيضة هل هي طازجة ام فاسدة فاستعمل

ثلاثة سوائل (ماء عذب - ماء مالح - ماء اشد ملوحة) مختلفة الكثافة

أ) اذكر القوى التي تؤثر على البيضة عند غمرها في كل سائل.

الجواب : القوى المؤثرة :

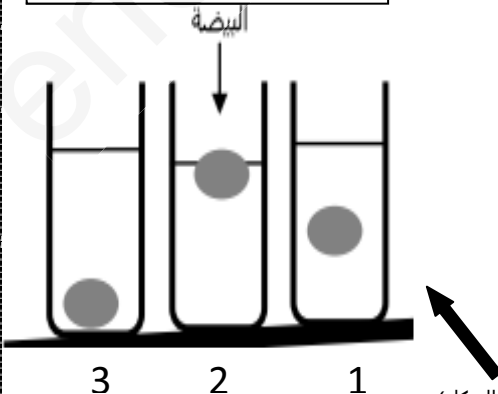
ب) فسر سبب اختلاف التوضع الذي تأخذه البيضة في كل حالة. مع التعليل .

الجواب: الحالة 1 : البيضة لأن

الحالة 2 : البيضة لأن

الحالة 3 : البيضة لأن

8) علما أن البيضة تكون في حالة توازن مثل يشعاع القوى المؤثرة عليها في الحالة 1 و الحالة 2 (التمثيل على الشكل)



التمرين الثاني (8نقاط):

في لعبة لشد الحبل ، اللاعب الفائر هو الذي يتمكن من إخراج العقدة من الاطار المربع. لكن بعد منافسة شديدة بين اللاعبين انتهت اللعبة بالتعادل . تم قياس القوة التي يسحب بها كل لاعب ، وتمثيلها باستعمال سلم رسم مناسب على الشكل الممثل في الوثيقة

1-فسر سبب انتهاء اللعبة بالتعادل وعدم فوز أي لاعب .

الجواب : انتهت اللعبة بالتعادل لأن

2- اذكر شرط توازن العقدة الموجودة في مركز الاطار المربع.

الجواب : بما أن العقدة تؤثر

فإن شرط التوازن هو :

3-اعتمادا على التمثيل في الشكل ، احسب شدة كل من القوتين F_1 و F_2 حيث سلم الرسم $1\text{cm} \rightarrow 5\text{N}$ (استعمال المسطرة ضروري)

الجواب : حسب سلم الرسم $1\text{cm} \rightarrow 5\text{N}$ حسب سلم الرسم

الجواب : حسب سلم الرسم $1\text{cm} \rightarrow 5\text{N}$ حسب سلم الرسم

..... \rightarrow حسب الشكل

..... \rightarrow حسب الشكل

$F_2 =$

$F_1 =$

$F_2 =$ إذن:

$F_1 =$ إذن:

4-كيف نسمي القوة F التي يكون تأثيرها هو نفسه تأثير القوتين F_1 و F_2

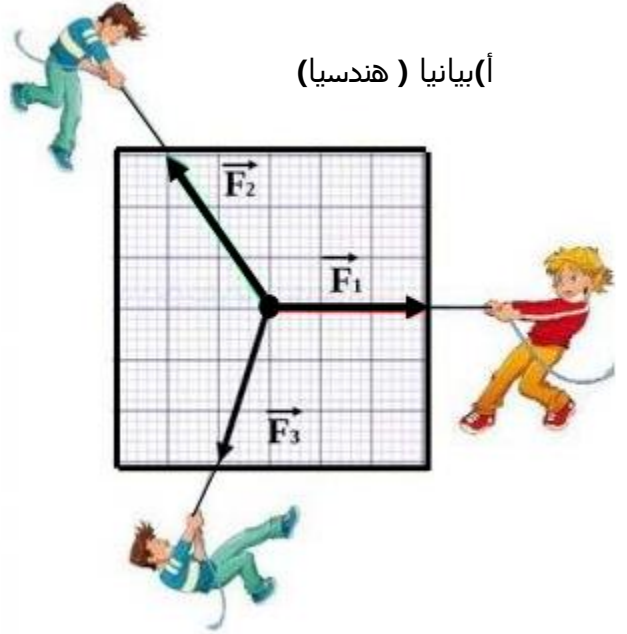
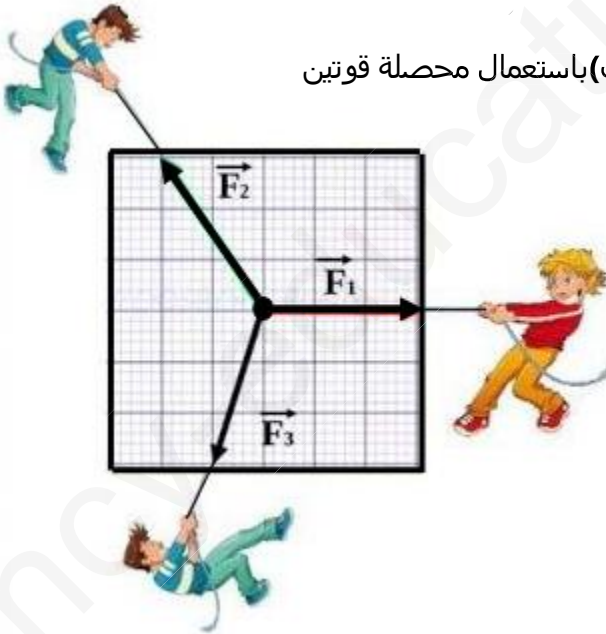
الجواب:

5- بين بطريقتين(بيانيا وباستعمال محصلة قوتين) أن العقدة في حالة توازن .

الجواب

(ب) باستعمال محصلة قوتين

(أ) بيانيا (هندسيا)



- 1 (تفسير سبب نقصان القيمة التي تشير إليها الريبعة عند غمر الجسم في هذا السائل. الجواب: .بسبب دافعة أرخميدس التي يطبقها السائل على الجسم المغمور فيه والتي يكون اتجاهها معاكسا لاتجاه الثقل. 2 (تمثل القيمة التي تشير إليها الريبعة في كل حالة:

الجواب: في الحالة 1 تمثل القيمة 4.45N: الثقل الحقيقي للجسم في الهواء $P=4.45N$
في الحالة 2 تمثل القيمة 3.82N: الثقل الظاهري للجسم في السائل المغمور فيه $P_{AP}=4.45N$

3 (أ) ذكر القوى التي تؤثر على الجسم وهو معلق بالريبعة في الهواء. الجواب: القوى المؤثرة على الكرية: \vec{P} ثقل الكرية * توتر الخيط \vec{T}

ب) شرط توازن هذا الجسم وهو معلق في الهواء.

الجواب: بما أن الكرية تؤثر عليها قوتان \vec{P} و \vec{T} فإن شرط توازنها

– للقوتين \vec{P} و \vec{T} نفس الحامل

– محصلة القوتين \vec{P} و \vec{T} معدومة. أي $\vec{P}+\vec{T}=0$

4 (أ) حساب كتلة الجسم المعلق بالريبعة في الهواء حيث قيمة الجاذبية $g=10N/Kg$

الجواب: القانون: $P=mxg$ ومنه $m = \frac{P}{g}$ التطبيق العددي $m = \frac{4.45}{10} = 0.445kg=445g$

ب) حساب حجم هذا الجسم بال m^3 علما أن الكتلة الحجمية للجسم $\rho_{الجسم} = 8.9g/cm^3$

الجواب: القانون $\rho_{الجسم} = \frac{m}{v}$ ومنه $\rho_{الجسم} = \frac{m}{V_{الجسم}}$ التطبيق العددي $V_{الجسم} = \frac{m}{\rho} = \frac{445}{8.9} = 50cm^3 = 0.000050.m^3$

ج) استنتاج حجم السائل المزاج V_e من طرف الجسم المغمور فيه مع التعليل.

الجواب $V_e = V_{الجسم} = 0.00005m^3$ لأن الجسم مغمور بشكل كلي في السائل.

5 (أ) شدة دافعة أرخميدس التي يطبقها السائل على الجسم المغمور فيه.

الجواب: القانون $F_A = P - P_{AP}$ التطبيق العددي $F_A = 4.45 - 3.82 = 0.63N$

ب) استنتاج الكتلة الحجمية للسائل المغمور فيه الجسم .

الجواب: $F_A = \rho_{السائل} \times V_{السائل} \times g$ ومنه $\rho_{السائل} = \frac{F_A}{V_{السائل} \times g}$ التطبيق العددي $\rho_{السائل} = \frac{0.63}{0.00005 \times 10} = 1260kg/m^3 = 1.26g/cm^3$

ج) حساب كثافة هذا السائل بالنسبة للماء.

الجواب: $d = \frac{\rho_{الجسم}}{\rho_{الماء}}$ التطبيق العددي $d = \frac{1260}{1000} = \frac{1.26}{1} = 1.26$

6) اعتمادا على الجدول التالي حدد من أي مادة الجسم المغمور وماهو السائل المستعمل مع التعليل ؟

الجواب: الجسم المغمور هو من مادة النحاس. لأن $\rho_{الجسم} = 8.9g/cm^3 = \rho_{النحاس}$

السائل المستعمل هو الغليسرين لأن $\rho_{السائل} = 1.26g/cm^3 = \rho_{الغليسرين}$

7) في نشاط آخر أراد هذا المخبري أن يتأكد من بيضة هل هي طازجة ام فاسدة فاستعمل ثلاثة سوائل (ماء عذب - ماء ملح - ماء اشد ملوحة) مختلفة الكثافة

أ) ذكر القوى التي تؤثر على البيضة عند غمرها في كل سائل.

الجواب: القوى المؤثرة: \vec{P} ثقل البيضة و \vec{F}_A دافعة أرخميدس التي يطبقها السائل على البيضة

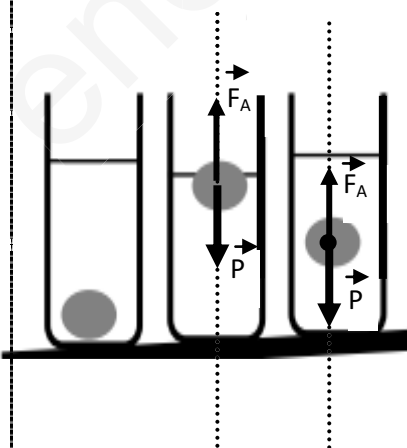
ب) تفسير سبب اختلاف التوضع الذي تأخذه البيضة في كل حالة مع التعليل .

الجواب: الحالة 1 : البيضة عالقة لأن $F_A = P$ ومنه $d_{البيضة} = d_{السائل}$

الحالة 2 : البيضة طافية لأن $F_A > P$ ومنه $d_{البيضة} > d_{السائل}$

الحالة 3 : البيضة راسية لأن $F_A < P$ ومنه $d_{البيضة} < d_{السائل}$

8) تمثيل بشعاع القوى المؤثرة عليها في الحالة 1 و الحالة 2 علما أن البيضة تكون في حالة توازن (التمثيل على الشكل)



التمرين الثاني :

في لعبة لشد الحبل ، اللاعب الفائز هو الذي يتمكن من إخراج العقدة من الاطار المربع. لكن بعد منافسة شديدة بين اللاعبين انتهت اللعبة بالتعادل . تم قياس القوة التي يسحب بها كل لاعب ، وتمثيلها باستعمال سلم رسم مناسب على الشكل الممثل في الوثيقة

1- تفسير سبب انتهاء اللعبة بالتعادل وعدم فوز أي لاعب .

الجواب : انتهت اللعبة بالتعادل لأن لم يتمكن أي لاعب من إخراج العقدة من الاطار المربع

2- شرط توازن العقدة الموجودة في مركز الاطار المربع.

الجواب : بما أن العقدة تؤثر عليها ثلاث قوى F_1, F_2, F_3 فإن شرط التوازن هو

* جوامل القوى الثلاثة F_1, F_2, F_3 من نفس المستوي وتتلاقى في نقطة واحدة

* محصلة القوى الثلاثة F_1, F_2, F_3 معدومة أي $F_1 + F_2 + F_3 = 0$

3- ، حساب شدة كل من القوتين F_1 و F_2 حيث سلم الرسم $1\text{cm} \rightarrow 5\text{N}$ (استعمال المسطرة ضروري)

حسب سلم الرسم $1\text{cm} \rightarrow 5\text{N}$

حسب الشكل $2.5\text{cm} \rightarrow F_2$

$$F_2 = \frac{2.5 \times 5}{1} \dots$$

$$F_2 = 12.5\text{N} \text{ إذن}$$

الجواب : حسب سلم الرسم $1\text{cm} \rightarrow 5\text{N}$

حسب الشكل $2\text{cm} \rightarrow F_1$

$$F_1 = \frac{2 \times 5}{1} \dots$$

$$F_1 = 10\text{N} \text{ إذن}$$

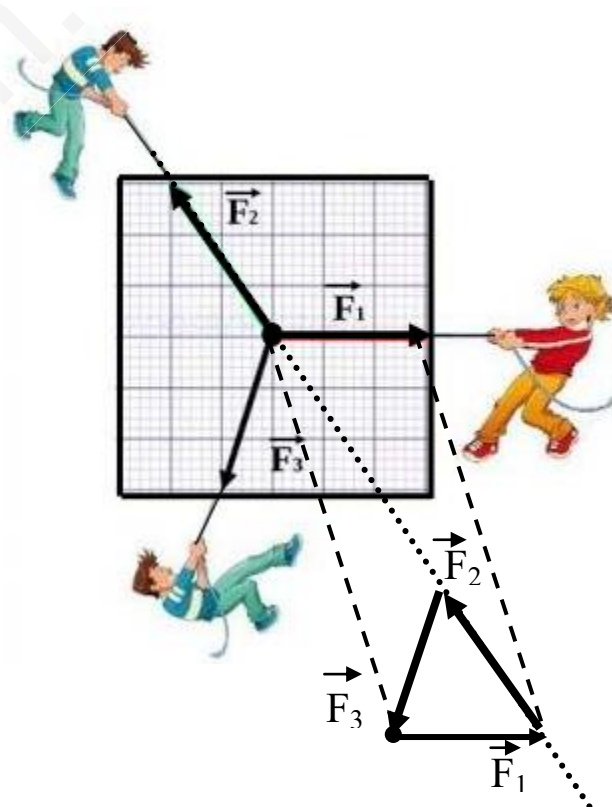
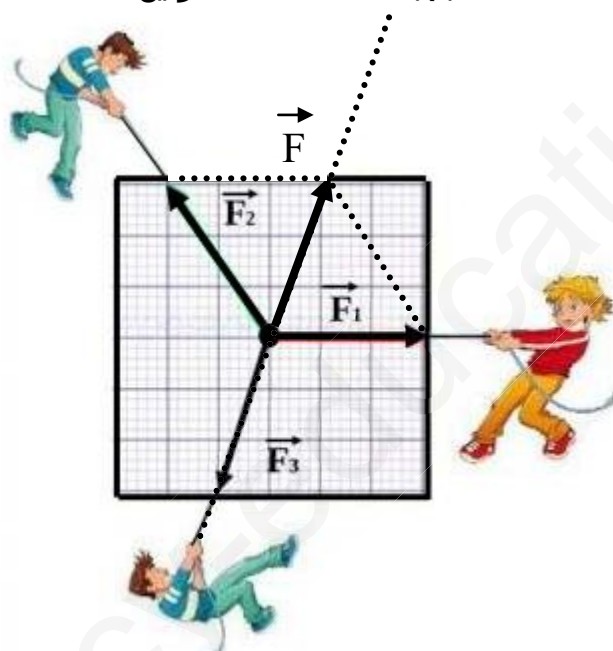
تسمية القوة F التي يكون تأثيرها هو نفسه تأثير القوتين F_1 و F_2 .
الجواب : تسمى القوة F التي يكون تأثيرها هو نفسه تأثير القوتين F_1 و F_2 بمحصلة القوتين F_1 و F_2 حيث $F = F_1 + F_2$

5- بين بطريقتين (بيانيا وباستعمال محصلة قوتين) أن العقدة في حالة توازن .

الجواب

(أ) بيانيا (هندسيا)

(ب) باستعمال محصلة قوتين



لتكن F محصلة القوتين F_1 و F_2

بعد تعيين الشعاع الذي يمثل F على الشكل فإن الشعاعين المثلين

للقوتين F_1 و F_2 لهما نفس الحامل ونفس الطويلة ومتعاكسان في

الاتجاه و منه $F_3 + F = 0$ وبما أن $F = F_1 + F_2$ إذن

وهو شرط التوازن إذن العقدة في حالة توازن $F_1 + F_2 + F_3 = 0$

بعد سحب الأشعة نحو نقطة معينة نتحصل على خط مضلعي معلق

مما يعني ان المجموع الشعاعي للأشعة التي تمثل هذه القوى

الثلاثة هو الشعاع الممدوم ومنه $F_1 + F_2 + F_3 = 0$ وهو شرط

التوازن إذن العقدة في حالة توازن