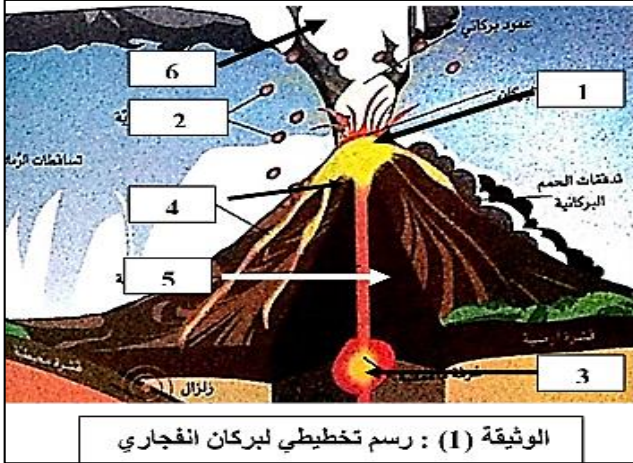


فرض الثلاثي الثاني في مادة علوم الطبيعة والحياة

التمرين الأول : (6 ن)



الوثيقة (1) : رسم تخطيطي لبركان انفجاري

تعتبر البراكين الانفجارية من بين الظواهر الجيولوجية الخطيرة التي تظهر على سطح الأرض والتي يكون وجودها مرتبط بظاهرة الغوص و طبقة من الطبقات الداخلية للكرة الأرضية

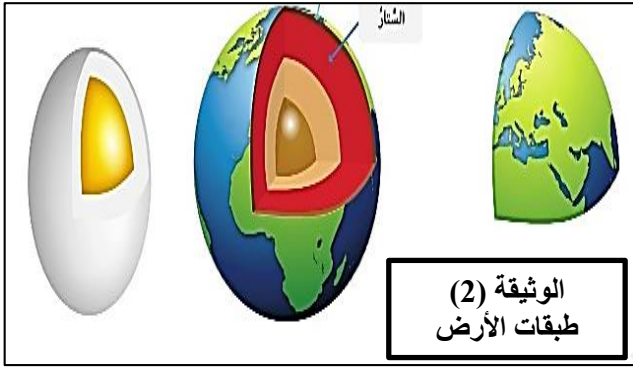
التعليمات

(1) استبدل أرقام الوثيقة 1 بالبيانات المناسبة (3 ن)

(2) اشرح باختصار كيف يحدث ثوران البركان الانفجاري محددًا

السبب الرئيسي لثورانه (3 ن)

التمرين الثاني : (6 ن)

الوثيقة (2)
طبقات الأرض

إن الطبقات الأرض تشبه تركيب مكونات البيضة كما هو مبين في الوثيقة (2)

التعليمات

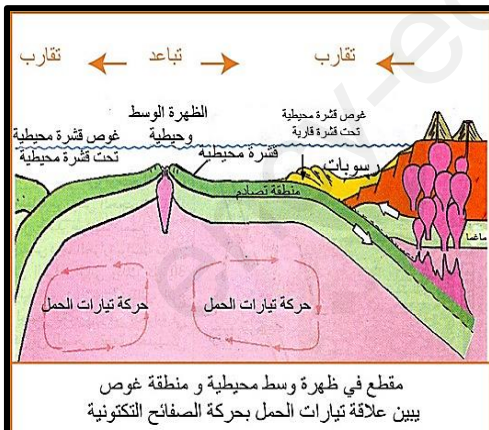
(1) أذكر كل طبقات الأرض بالترتيب (3 ن)

(2) عرف الليتوسفير و الأستينوسفير مبينا الفرق بينهما (3 ن)

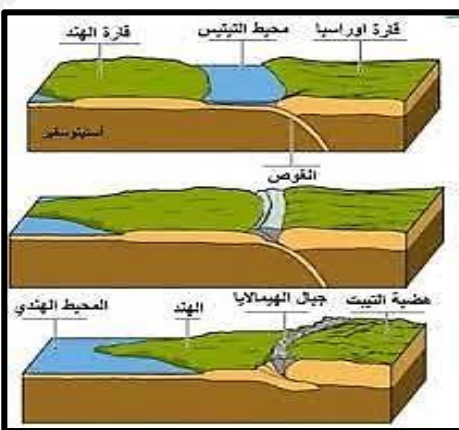
الوضعية الإدماجية : (8 ن)

من الدراسة الجيولوجية تبين أن سطح الكرة الأرضية في حركة مستمرة بفعل ديناميكية داخلية ، تخلف قوى ضغط و طاقة هائلة تؤدي هذه التكتونية العامة إلى ظهور بنايات و تشوهات جيولوجية في القارات و المحيطات، كسلسلة جبال الهيمالايا التي تقع بين الهند و القارة الآسيوية .

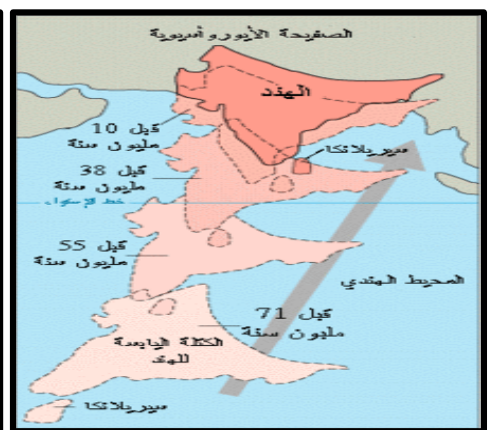
السندات



الوثيقة (3): التكتونية العامة للكورة الأرضية



الوثيقة (2) : مراحل تشكل الهيمالايا



الوثيقة (1): زحزة الصفحة الهندية

باستغلال مكتسباتك القبلية و السندات أجب عن التعليمات

(1) حدد مراحل تشكل جبال الهيمالايا (2.5 ن)

(2) فسّر اختفاء المحيط الذي كان موجودا بين قارتي آسيا و الهند (2.5 ن)

(3) استنتج العلاقة بين الديناميكية الداخلية للكورة الأرضية و تكتونية الصفائح مبينا السبب و كل الظواهر الجيولوجية الناتجة عنها (2.5 ن)

ملاحظة : (0.5 ن) على تنظيم و نظافة الإجابة

ency-education.com/exams

تصحيح فرض الثلاثي الأول لعلوم الطبيعة والحياة

المقاطع التعليمية	الميادين
التغذية عند الانسان	1- الإنسان و الصحة

تصحيح التمرين الأول: (10 ن)

1- عرف الراتب الغذائي
*تعريف الراتب الغذائي : هو الحاجيات الغذائية التي يتناولها الشخص خلال 24 ساعة للحفاظ على وزنه و للحصول على الطاقة اللازمة من أجل النشاط (2.25 ن)

2- أذكر العوامل المتدخلة في تغير الراتب الغذائي عند الانسان
*يتغير الراتب الغذائي عند الانسان حسب :

العمر ، الجنس ، النشاط ، حالة المرأة (حامل أو مرضعة) و المناخ (3.75 ن)

3- حدد نوع الراتب الغذائي للأب ثم بين لماذا يحتاج جسمه للغلوسيدات والدهم في غذائه اليومي ؟
*نوع الراتب الغذائي للأب : هو راتب العمل (1 ن)

*يحتاج الأب لكميات كبيرة من الغلوسيدات والدهم لأن : لأنه رياضي يقوم بنشاط مكثف (1 ن)

4- حدد نوع الراتب الغذائي للأطفال ثم بين اختيار الأم للأغذية البروتينية للأطفال .
*نوع الراتب الغذائي للأطفال هو : هو راتب النمو (1 ن)

*سبب اختيار الأم للأغذية البروتينية للأطفال : لأن الأطفال في مرحلة نمو الجسم (1 ن)

تصحيح وضعية الادماج : (10 ن)

1- أملأ الجدول التالي .. (4 ن)

الملاحظة	الكاشف	المادة الغذائية المكشوف عنها
ظهور راسب أحمر أجوري	محلول فهلنغ	الغلوسيد (السكر البسيط)
ظهور لون أزرق بنفسجي	ماء اليود	النشاء

2- صنف الأغذية التي يتناولها الرضيع بعد الفطام في الجدول التالي .. (4 ن)

تصنيفها		الأغذاء
حسب التركيب	حسب مصدرها	
مركب	عضوي	دجاج
بسيط	معدي	ماء
مركب	عضوي	خضر و فواكه
بسيط	عضوي	السكر الأبيض

فسر تفحم الخبز و تبخر الماء بالتسخين

*يتفحم الخبز بالتسخين لأنه غذاء عضوي يحتوي على الكربون (الفحم) (1 ن)

*يتبخر الماء بالتسخين لأنه غذاء معدي لا يحتوي على الكربون (الفحم) (1 ن)